



BA – AÖL / 2012 – III.DÖNEM - Cumartesi 09.00

BİRİNCİ OTURUM

TEST GRUBUNUZ

A

CEVAP KÂĞIDINIZA İŞARETLEMİYİ UNUTMAYINIZ.

ÖĞRENCİNİN

SOYADI :

ADI :

ÖĞRENCİ NO :

SINAV SALON NO: SIRA NO:

Soyadınızı, adınızı, öğrenci numaranızı, salon ve sıra numaranızı yukarıya yazmayı unutmayınız.

GENEL AÇIKLAMA

1. Bu soru kitapçığındaki testler şunlardır:

Testin Adı	Soru Sayısı	Sayfa No
DİN KÜLTÜRÜ VE AHLAK BİLGİSİ 1	20	2
DİN KÜLTÜRÜ VE AHLAK BİLGİSİ 7	20	4
COĞRAFYA 2	20	6
COĞRAFYA 8	20	8
MATEMATİK 3	20	10
MATEMATİK 4	20	14
GEOMETRİ 2	20	18
YABANCI DİL 1 (ALM.1, FRA.1, İNG.1)	20	22
SOSYOLOJİ 2	20	31
TURİZM 1	20	33
DİL VE ANLATIM 5	20	36

Testin Adı	Soru Sayısı	Sayfa No
KİMYA 2	20	38
BİYOLOJİ 3	20	41
BİYOLOJİ 7	20	43
DEMOKRASİ VE İNSAN HAKLARI 1	20	46
MİLLİ GÜVENLİK BİLGİSİ 2	20	48
İŞ GÜVENLİĞİ 2	20	50
SANAT TARİHİ 1	20	52
SEÇMELİ TÜRK EDEBİYATI 4	20	54
SEÇMELİ YABANCI DİL 6 (ALM.6,FRA.6,İNG.6)	20	56
SEÇMELİ YABANCI DİL 5 (ALM.5,FRA.5,İNG.5)	20	65

2. Bu kitapçıkta yer alan her bir test için cevaplama süresi **30** dakika, toplam sınav süresi **150** dakikadır.
3. Cevaplamaya istediğiniz testin, istediğiniz sorusundan başlayabilirsiniz. Yalnız cevaplarınızı, cevap kâğıdında o test için ayrılmış olan bölümdeki aynı numaralı cevap yerine işaretlemeyi unutmayınız.
4. Cevaplarınızı koyu siyah ve yumuşak bir kurşunkalemle işaretleyiniz. İşaretinizi cevap yerinin dışına taşırmayınız. Tükenmez veya mürekkepli kalem kullanmayınız.
5. Değiştirmek istediğiniz bir cevabı yumuşak bir silgi ile, cevap kâğıdını örselemeden temizce siliniz ve doğru cevabınızı işaretlemeyi unutmayınız.
6. Cevap kâğıdınızı buruşturmayınız, katlamayınız ve üzerine gereksiz hiçbir işaret koymayınız.
7. Bu kitapçıkta her sorunun bir tek doğru cevabı vardır. Bir soru için birden çok cevap yeri işaretlenmişse o soru yanlış cevaplanmış sayılacaktır.
8. Cevaplarınız puanlanırken her doğru cevabınıza eşit puan verilecek, yanlış cevaplarınız dikkate alınmayacaktır. Bu nedenle kitapçıkta tüm sorular için size doğru gelen seçeneği işaretleyerek cevapsız soru bırakmamanız yararınıza olacaktır.
9. Kitapçığın sayfalarındaki boş yerleri müsvedde için kullanabilirsiniz.

Anadolu Üniversitesi tarafından hazırlanmış olan bu testlerin her hakkı saklıdır. Hangi amaçla olursa olsun, testlerin tamamının veya bir kısmının Anadolu Üniversitesi'nin yazılı izni olmadan kopya edilmesi, fotoğraflarının çekilmesi, herhangi bir yolla çoğaltılması, yayımlanması ya da kullanılması yasaktır. Bu yasağa uymayanlar gerekli cezai sorumluluğu ve testlerin hazırlanmasındaki mali külfeti peşinen kabullenmiş sayılır.

DİN KÜLTÜRÜ VE AHLAK BİLGİSİ 1

A

2012 3D 0101-A

1. Akıllı her insanın doğasında var olan Allah'ı birleme, O'na iman ve itaat etme isteğine ne ad verilir?

- A) İcazet
- B) Gelenek
- C) İbadet
- D) Fitrat
- E) Ahlâk

2. Agnostisizm felsefe akımının kurucusu kimdir?

- A) Nietzsche
- B) Bertrand Russell
- C) Kant
- D) Sartre
- E) T. H. Huxley

3. İlk peygamber kimdir?

- A) Hz. Muhammed
- B) Hz. Adem
- C) Hz. Yusuf
- D) Hz. İsa
- E) Hz. İbrahim

4. Monoteizm inancının karşısındaki inanış biçimi aşağıdakilerden hangisidir?

- A) Agnostisizm
- B) Gnostisizm
- C) Ateizm
- D) Politeizm
- E) Satanizm

5. Bütün dinler arasında tek tanrı anlayışını en saf şekliyle koruyan din aşağıdakilerden hangisidir?

- A) İslamiyet
- B) Hristiyanlık
- C) Yahudilik
- D) Şamanizm
- E) Hinduizm

6. Abdest ya da gusül almak için temiz su bulunamadığı durumlarda temiz bir toprakla yüz ve kolların mesh edilmesine ne ad verilir?

- A) Teemmül
- B) Tevekkül
- C) Tefekkür
- D) Teheccüt
- E) Teyemmüm

7. Aşağıdaki davranışlardan hangisi ibadet değildir?

- A) Hacca gitmek
- B) Sadaka vermek
- C) Okumak
- D) Çevreyi temiz tutmak
- E) Yemek yemek

8. Aşağıdakilerden hangisi abdestin farzlarından biri değildir?

- A) Bütün bedeni kuru yer kalmayacak şekilde yıkamak
- B) Ayakları topuklarla beraber yıkamak
- C) Yüzü yıkamak
- D) Başı meshetmek
- E) Elleri dirseklere kadar yıkamak

9. Namaz kılabilmenin ilk şartı aşağıdakilerden hangisidir?

- A) Dinin emrettiği şekilde örtünmek
- B) Abdest almak
- C) Kâbe'ye doğru dönmek
- D) Namaz vaktine girmiş olmak
- E) Kılınacak namaza niyet etmek

10. Aşağıdakilerden hangisi mal ile yapılan ibadetlerden biridir?

- A) Zekât vermek
- B) Oruç tutmak
- C) Namaz kılmak
- D) Çevreyi temiz tutmak
- E) Çalışmak

A

2012 3D 0101-A

11. Alemlere bereket ve hidayet kaynağı olarak insanlar için kurulan ilk ev Kâbe nerededir?

- A) Taif
- B) Umman
- C) Medine
- D) Mekke
- E) Kudüs

12. Hz. Muhammed kaç yılında doğmuştur?

- A) 562
- B) 571
- C) 589
- D) 622
- E) 632

13. Hz. Muhammed'in süt annesinin adı nedir?

- A) Halime
- B) Âmine
- C) Fatma
- D) Hatice
- E) Ayşe

14. Hz. Muhammed'e vahiy getiren melek aşağıdakilerden hangisidir?

- A) İsrail
- B) Cebrail
- C) Mikail
- D) Kiramen kâtibin
- E) Hafaza melekleri

15. Aşağıdakilerden hangisi ilk Müslümanlardan biridir?

- A) Hz. Osman
- B) Ebu Cehil
- C) Hz. Hatice
- D) Hz. Talip
- E) Hz. Hamza

16. Yüce Allah'ın emirlerini, yasaklarını ve öğütlerini değişik yollarla peygamberlerine bildirmesine ne ad verilir?

- A) Sünnet
- B) Kıyas
- C) Vahiy
- D) Kaza
- E) İcma

17. Kur'an-ı Kerim kaç yılda indirilmiştir?

- A) 11
- B) 12
- C) 15
- D) 19
- E) 23

18. Kur'an-ı Kerim'in iki kapak arasında toplanması ve kitap haline getirilmesi kimin zamanında olmuştur?

- A) Hz. Ebu Talip
- B) Hz. Ömer
- C) Hz. Ebu Bekir
- D) Hz. Osman
- E) Hz. Ali

19. Aşağıdakilerden hangisi Kur'an-ı Kerim'in isimlerinden biri değildir?

- A) Zikr
- B) Hakim
- C) Furkan
- D) Tefsir
- E) Nur

20. Kur'an-ı Kerim'in çoğaltılarak değişik bölgelere gönderilmesi kimin zamanında olmuştur?

- A) Hz. Ali
- B) Hz. Ebu Talip
- C) Hz. Osman
- D) Hz. Ömer
- E) Hz. Ebu Bekir

DİN KÜLTÜRÜ VE AHLAK BİLGİSİ 7

A

2012 3D 0101-A

1. Ahiret'e iman eden bir insan için aşağıdakilerden hangisi yanlıştır?

- A) İnsana, sonsuzluğu kazandırmak için bir aksiyon ruhudur.
- B) İnsanın yaptıklarının sorumluluğunu taşıma şuurudur.
- C) İnsanın dünya hayatında yaptığı şeylerin bir karşılığının olduğunu hatırlatır.
- D) İnsanın ilahi adalete güvenme duygusunu verir.
- E) İnsanı dünya hayatının güzelliklerinden mahrum kalmasını gerektirir.

2. "Aşkın maşukuna kavuştuğu gece, vuslat gecesi" anlamına gelen kavram aşağıdakilerden hangisidir?

- A) Takvim-i ömür
- B) Şeb-i arus
- C) Mahşer
- D) Kıyam
- E) Nazm-ı Celil

3. "Ruz-i visalin" ne demektir?

- A) Yaşarken yapılan iyilikler
- B) Ölümün geldiği yer
- C) Canın gövdeye konuk olması
- D) Kavuşma gününün bayramı
- E) Ölümün gerçekliği

4. O demde ki, perdeler kalkar perdeler iner
Azrail'e "hoş geldin" diyebilmekte hüner.
Kapı kapı bu yolun son kapısı ölümse;
Her kapıda ağlayıp, o kapıda gülümse

Ölüm duygusunun bahsedildiği bu dörtlüğün yazarı aşağıdakilerden hangisidir?

- A) Necip Fazıl Kısakürek
- B) Yusuf Has Hacı
- C) Hafız Şirazi
- D) Hz. Mevlana
- E) Yunus Emre

5. I. Öldürülmüş eşkıya
II. Kasten ana babasını öldüren
III. Yol kesiciler

Yukarıdakilerden hangisinin cenaze namazı kılınmaz?

- A) Yalnız I
- B) Yalnız II
- C) Yalnız III
- D) II ve III
- E) I, II ve III

6. İslam'da yüce kudret karşısında kulluğu en iyi ifade eden ibadet şekli aşağıdakilerden hangisidir?

- A) Zekat
- B) Hac
- C) Namaz
- D) Oruç
- E) Yardımseverlik

7. Hristiyanlıkta Hz. İsa'nın havarileriyle yediği yemeğin anısını ifade eden ve Pazar günleri yapılan ayine ne ad verilir?

- A) Kilise günü
- B) Tallit
- C) Amida
- D) Evharistiya
- E) Mezmur

8. Dualarını, mabed veya evde tanrılara piring ve piring şarabı sunarak yerine getirenlerin dini aşağıdakilerden hangisidir?

- A) Budizm
- B) Şintoizm
- C) Mistisizm
- D) Maniheizm
- E) Hinduizm

9. Yahudilikte evrenin ve insanın kaderinin belirlenmesini temsil eden, Yahudi takvimine göre, Eylül- Ekim aylarına denk gelen bir zamanda iki gün olarak kutlanan, tövbe ve ibadet ederek tanrıdan bağışlanma dilenen gün aşağıdakilerden hangisidir?

- A) Roş-Haşana
- B) Yom-Kipur
- C) Bodhi Gaya
- D) Evharistiya
- E) Siddur

10. Budistlerin ibadet yerlerine ne ad verilir?

- A) Katedral
- B) Kilise
- C) Pagoda
- D) Mescit
- E) Sinagog

A

2012 3D 0101-A

11. "Allahın koyduğu kurallar, ilahi kanunlar." anlamına gelen kavram aşağıdakilerden hangisidir?

- A) Takriri sünnet
- B) Takrir
- C) Hadis
- D) Sünnetullah
- E) Sünnet

12. İslam dininde geçen kavramlarla ilgili aşağıdaki ifadelerden hangisi yanlıştır?

- A) Hadis, sünnetten daha kapsamlıdır.
- B) Sünnet, Kur'an'ın açıklayıcısıdır.
- C) Hadis, Hz. Peygamberin sözleridir.
- D) Fili sünnet, Peygamberimizin ortaya koyduğu uygulamalardır.
- E) Kur'an, Peygamberimizin İslam'ı tebliğ etmek ve açıklamakla görevli olduğunu bildirir.

13. Hz. Peygamberin peygamberlik vasfıyla ortaya koyduğu sünnete ne ad verilir?

- A) Beyan
- B) Te'kid
- C) İmamet
- D) İfta
- E) Risalet

14. Aşağıdakilerden hangisi Sünen türünde eserler vermemiştir?

- A) Buhari
- B) Ebu Davud
- C) Tirmizi
- D) Nesai
- E) İbn Mace

15. Kütüb-i Sitte'nin altıncı kitabını aşağıdakilerden hangisi yazmıştır?

- A) Tirmizi
- B) Nesai
- C) İbn Mace
- D) Ebu Davud
- E) Buhari

16. Ahilik anlayışına göre Hz. Muhammed kimlerin piri olarak kabul edilmiştir?

- A) Seyyahlar
- B) Saatçiler
- C) Hekimler
- D) Fırıncılar
- E) Bahçıvan, çoban ve tacirler

17. Aşağıdakilerden hangisi Alevilik- Bektaşilikte "Üç Sünnet Yedi Farz" kavramında geçen yedi farzdan biri değildir?

- A) Sımnı izhar etmemek
- B) Özür ile niyaz eylemek
- C) Gördüğünü örtmek
- D) Hakkı zikretmek
- E) Mürebbi hakkını gözetmek

18. Her konuda haddini bilip, sınırı aşmamak, insanlara iyi muamelede bulunmak, güzel ahlak anlamına gelen kavram aşağıdakilerden hangisidir?

- A) Sufi
- B) Edeb
- C) Zikir
- D) Silsile
- E) Mürid

19. Tasavvufun asıl kaynağı aşağıdakilerden hangisidir?

- A) Mutasavvıf
- B) Beka
- C) Kur'an ve Sünnet
- D) Sufilik
- E) Namaz

20. Aşağıdakilerden hangisi Mevleviliğin temel ilkelerinden biri değildir?

- A) Mesnevi okumak ve mutasavvıf olmak
- B) Zengin olmak
- C) Dindar olmak
- D) Sabırlı, güler yüzlü ve nazik olmak
- E) Bilimle uğraşmak

COĞRAFYA 2

2012 3D 0101-A

1. Aşağıdakilerden hangisi Mezopotamya, İndus Vadisi, Kuzey Çin gibi insanların yerleşik hayata ilk olarak geçtikleri yerlerin ortak özelliklerinden biri değildir?

A) Aşırı soğuk olmaması
B) Zengin maden yataklarının varlığı
C) Yağışın yeterli olması
D) Verimli toprakların olması
E) Akarsuların bulunması

2. Anadolu arazisinin yükselmeye başlayıp su yüzüne çıkması ve Anadolu yarımadasının genel görünümünü alması jeolojik zamanların hangisinde olmuştur?

A) Kuaterner
B) Paleozoik
C) Prezoik
D) Tersiyer
E) Mezozoik

3. Aşağıdakilerden hangisi Türkiye'de görülen en yaygın köy altı yerleşmelerinden biri değildir?

A) Çiftlik
B) Kom
C) Belde
D) Mezra
E) Yayla

4. Aşağıdaki şehirlerden hangisinin nüfusunda mevsimsel farklılık daha fazladır?

A) Nevşehir
B) Eskişehir
C) Kayseri
D) Yozgat
E) Antalya

5. Doğu Anadolu Bölgesi'nde akarsuların enerji üretim potansiyelinin yüksek olmasının temel nedeni aşağıdakilerden hangisidir?

A) Kışların kar yağışlı geçmesi
B) Bölgenin engebeli olması
C) Bölgede karstik arazinin bol olması
D) Bölgede tarım yerine hayvancılığın tercih edilmesi
E) Yeraltı sularının çok zengin olması

6. Ekvatora uzaklıkları hemen hemen aynı olan Çanakkale ve Ağrı'nın ortalama sıcaklıklarının farklı olmasının nedeni aşağıdakilerden hangisidir?

A) Bitki örtüsü
B) Boylam derecesi
C) Akarsuların uzunluğu
D) Yükselti
E) Enlem derecesi

7. İşlenmemiş (hammadde) ya da yarı işlenmiş maddelerin, fabrikalarda işlenerek kullanılabilir duruma getirilme işine ne ad verilir?

A) Tarımsal üretim
B) Ekonomik faaliyet
C) Ulaşım sektörü
D) Mesleki eğitim
E) Sanayi

8. Bir ülkenin siyasi sınırları içinde olmakla beraber gümrük hattı dışında sayılan, ülkede geçerli ticari, mali ve ekonomik alanlara ilişkin hukuki ve idari düzenlemelerin kısmen uygulandığı, sanayi ve ticari faaliyetler için daha geniş teşviklerin tanındığı yerlere ne ad verilir?

A) Fuar
B) Serbest bölge
C) Liman
D) Gümrük bölgesi
E) Açık pazar

9. Aşağıdakilerden hangisi ülkemizdeki volkanik sönmüş yanardağlardan biri değildir?

A) Ağrı Dağı
B) Nemrut Dağı
C) Süphan Dağı
D) Erciyes Dağı
E) Köroğlu Dağı

2012 3D 0101-A

10. Özellikle Ürgüp-Göreme çevresinde yaygın olarak görülen, volkanik dağlardan çıkan malzemelerin biriktiği araziler üzerinde sel sularının aşındırma yaparak oluşturduğu şekiller aşağıdakilerden hangisidir?

A) Polye
B) Peri bacaları
C) Kırgıbayır
D) Dev kazanı
E) Birikinti konisi

11. Aşağıdakilerden hangisi zirvesinde takke buzulu olan Türkiye'nin en yüksek dağıdır?

A) Ağrı
B) Tendürek
C) Süphan
D) Erciyes
E) Nemrut

12. Doğu Karadeniz'de dağların kıyıya paralel uzanmasının aşağıdakilerden hangisi üzerinde etkili olduğu söylenemez?

A) Kuzeyden esen rüzgarların soğuk olması
B) Kıyı kesiminde bol yağış isteyen bitkilerin yetişmesi
C) Dağların denize bakan yamaçlarında bol yağış oluşması
D) Kıyı ile iç kesimler arasında ulaşımın güç olması
E) Denizel etkinin iç kesimlerde görülmemesi

13. Aşağıdakilerden hangisi nüfusun çeşitli özelliklerini, dağılışını, hareketlerini ve nüfus hareketlerinden doğan sorunları inceler?

A) Nüfus coğrafyası
B) Ulaşım coğrafyası
C) Tarım coğrafyası
D) Turizm coğrafyası
E) Sanayi coğrafyası

14. Aşağıdaki şehirlerden hangisi günümüzde idari kent özelliğinde değildir?

A) Ankara
B) Paris
C) New York
D) Moskova
E) Bakü

15. Aşağıdakilerden hangisi kıyı ovalarından biri değildir?

A) Çukurova
B) Silifke
C) Bafra
D) Çarşamba
E) Düzce

16. Akarsuların eğiminin azaldığı yerlerde sağa sola büküm yaparak akması ile oluşan şekillere ne ad verilir?

A) Kırgıbayır
B) Vadi
C) Dev kazanı
D) Menderes
E) Peribacası

17. Türkiye'de kayaların erimesiyle oluşan karstik şekiller hangi kayaçların bulunduğu yörelerde daha fazla oluşurlar?

A) Kireçtaşı
B) Kumtaşı
C) Andezit
D) Bazalt
E) Granit

18. Aşağıdaki illerden hangisinin yıllık ortalama sıcaklık değerleri diğerlerinden daha fazladır?

A) Erzurum
B) Bursa
C) Kayseri
D) İzmir
E) Sivas

19. Aşağıdaki iklim çeşitlerinin hangisinde yaz ile kış arasındaki sıcaklık farkı daha azdır?

A) İç Anadolu Karasal İklimi
B) Doğu Anadolu Karasal İklimi
C) Doğu Karadeniz İklimi
D) İç Ege İklimi
E) Güneydoğu Anadolu Karasal İklimi

20. Aşağıdaki akarsu havzalarından hangisi dış akışı olmaya kapalı havza özelliğindedir?

A) Yeşilırmak Havzası
B) Sakarya Havzası
C) Tuz Gölü Havzası
D) Kızılırmak Havzası
E) Menderes Havzası

2012 3D 0101-A

1. Cumhuriyetin ilk yıllarında nüfus artışını özendirici politikalar izlenmiş ancak 1940-1945 yılları arasında nüfus artış hızının düştüğü görülmüştür.

Aşağıdakilerden hangisi bu durumun nedenlerinden biridir?

- A) Yurt dışından göçmen kabulünün yasaklanması
- B) Salgın hastalıkların artması
- C) Yaşanan doğal afetler sonucunda ortaya çıkan insan kayıpları
- D) Yurtdışına olan göçün hızlanması
- E) İkinci Dünya Savaşı'nın ülkemizde yarattığı olumsuz sonuçlar

2. Türkiye'nin nüfusu 1927'den 2000 yılına kadar 13.6 milyondan 67.8 milyona yükselmiştir. Bu hızlı artışın nedenleri arasında aşağıdakilerden hangisi gösterilemez?

- A) Ekonomik koşulların iyileşmesi
- B) Sosyal yaşam koşullarının gelişmesi
- C) Yurtdışına işçi göçü ile sağlanan gelirin artması
- D) Beslenme koşullarının düzelmesi
- E) Sağlık hizmetlerinin gelişmesi

3. Aşağıdakilerden hangisi Cumhuriyet'in ilk yıllarında uygulanan nüfus politikalarından biri değildir?

- A) Doğum evlerinin kurulması
- B) Ücretsiz ilaç dağıtımı
- C) Şehirlere göçün teşviki
- D) Gümrük muafiyeti
- E) Çok çocuklu ailelerin para yada madalya ile ödüllendirilmesi

4. Aşağıdakilerden hangisi DOKAP (Doğu Karadeniz Projesi) projesinin uygulandığı bölgenin başlıca sorunlarından biridir?

- A) Kişi başına düşen milli gelirin az olması
- B) Tarla ürünlerinde çeşitliliğin olması
- C) Organize sanayi bölgelerinin yoğun olması
- D) Ulaştırma alt yapısının olmaması
- E) Meraların yoğun olması

5. Aşağıdakilerden hangisi Güneydoğu Anadolu'da sulama imkanlarının geliştirilmesi ile ortaya çıkması hedeflenen sonuçlardan biri değildir?

- A) Pamuk üretiminde artışın sağlanması
- B) Toprağın her yıl ekilmesinin sağlanması
- C) Tarım ürünlerinde çeşitliliğin artması
- D) Bölgedeki kalabalık nüfusun giderek azalması
- E) Toprağın verim gücünün artması

6. Aşağıdakilerden hangisi fizibilite çalışmaları tamamlanan projelerin hayata geçirilmesiyle, söz konusu bölgelerde hedeflenen temel gelişmelerden biri değildir?

- A) Göçleri azaltmak
- B) Kalkınmayı hızlandıracak aktiviteleri yaygınlaştırmak
- C) Kişi başına düşen milli geliri artırmak
- D) İstihdamı azaltmak
- E) Tarımsal gelişme ve hayvancılığın gelişmesini sağlamak

7. Artvin, Bayburt, Giresun gibi illeri kapsayan proje aşağıdakilerden hangisidir?

- A) GAP
- B) DOKAP
- C) ZBK
- D) Yeşilimlak HGP
- E) DAP

8. Dünya'nın akciğerleri olarak adlandırılan Amazon yağmur ormanları hangi kıtada yer almaktadır?

- A) Güney Amerika
- B) Afrika
- C) Avustralya
- D) Kuzey Amerika
- E) Asya

9. Aşağıdakilerden hangisi Türkiye'nin jeopolitik önemini artıran unsurlardan biri değildir?

- A) Üç tarafının denizlerle çevrili olması
- B) Boğazlara sahip olması
- C) Farklı kültür bölgelerine yakın olması
- D) Zengin petrol kaynakları bölgelerine komşu olması
- E) Yükseltisinin batıdan doğuya doğru artması

2012 3D 0101-A

10. Aşağıdakilerden hangisi Birleşmiş Milletler'in kuruluş amacıdır?

- A) Petrol fiyatlarını ve üretim miktarlarını belirlemek
- B) İkinci Dünya Savaşı'nı kazanan ülkeler tarafından savaş sonunda ortaya çıkabilecek anlaşmazlıkları çözmek, dünya barış ve güvenliğini sağlamak
- C) Dünya para meselelerinin çözülmesi için ülkeler arasında işbirliği sağlamak
- D) Ülkeler arasında ayırım gözetmeksizin dünya ticaretinin geliştirilmesine destek vermek
- E) Ulaştırma ve haberleşme olanaklarında ortak projelerin geliştirilmesi ve gerçekleştirilmesine destek vermek

11. Aşağıdakilerden hangisi sınır komşusu olduğumuz ülkeler arasında yer almaz?

- A) Suriye
- B) Gürcistan
- C) Afganistan
- D) Irak
- E) İran

12. Aşağıdakilerden hangisi Türkiye'yi doğrudan ilgilendiren sorunlardan biridir?

- A) Bosna-Hersek sorunu
- B) Irak sorunu
- C) Filistin sorunu
- D) Makedonya sorunu
- E) Kosova sorunu

13. Aşağıdakilerden hangisi petrol bakımından zengin olan Hazar Bölgesi'nde yer alan ülkelerdendir?

- A) Hindistan-Pakistan
- B) Malezya-Endonezya
- C) Afganistan-Özbekistan
- D) Afganistan-Tacikistan
- E) Azerbaycan-Türkmenistan

14. Aşağıdakilerden hangisi Çin' in önemli akarsularından biri değildir?

- A) Mavi ırmak
- B) Sarı ırmak
- C) Mekong
- D) Benue
- E) Sonkuo

15. Kazakistan ve Azerbaycan petrolünü, Türkmenistan ise doğalgazını aşağıdaki hatlardan hangisiyle dünya piyasalarına ulaştırmaktadır?

- A) Bakü-Tiflis-Erzurum-Ankara boru hattı
- B) Kazakistan-Türkmenistan-İran boru hattı
- C) Kazakistan-Çin boru hattı
- D) Nabucco boru hattı
- E) Bakü-Tiflis-Ceyhan boru hattı

16. Aşağıdakilerden hangisi uluslararası sıcak çatışmalara neden olan beşeri ve ekonomik unsurlardan biridir?

- A) Toprak paylaşımı
- B) Yeraltı zenginliklerinin paylaşımı
- C) Bağımsızlık istekleri
- D) Su kaynaklarının paylaşımı
- E) Enerji kaynaklarının paylaşımı

17. Aşağıdakilerden hangisi dünya çapında faaliyet gösteren küresel örgütlerden biridir?

- A) IMF
- B) Avrupa Birliği
- C) Nafta
- D) AGİT
- E) Karadeniz Ekonomik İşbirliği

18. Aşağıdakilerden hangisi yeryüzünde nesli tükenmekte olan hayvanlardan biri değildir?

- A) Kaplanlar
- B) Develer
- C) Deniz kaplumbağaları
- D) Pandalar
- E) Kutup ayıları

19. Aşağıdakilerden hangisi meşe ağacının faydalarından biri değildir?

- A) Ekolojik, ekonomik ve biyolojik öneme sahiptir.
- B) Çeşitli hayvanlara doğal barınak sağlar.
- C) Toprağın geçirgenliğini azaltır.
- D) Yaprakları ile toprağı besler.
- E) Derin ve saçak kök sistemi ile toprağı korur, erozyonu önler.

20. Aşağıdakilerden hangisi Türkiye'nin kaybolmakta olan sulak alanlarından biri değildir?

- A) Van Gölü
- B) Hatay-Amik Gölü
- C) Akşehir Gölü
- D) Burdur Kestel Gölü
- E) Kahramanmaraş Gavur Gölü

MATEMATİK 3

A

2012 3D 0101-A

1. $P(x) = -x^4 + (a-3)x^3 - 3x^2 + b - 5$
 $Q(x) = (a-2c)x^4 + (d-4)x^2 - 8$
- polinomları eşit olduğuna göre, $a + b + c + d$ kaçtır?

A) -4
B) -1
C) 0
D) 3
E) 7

2. $\frac{P(3x-4)}{Q(x)} = 4x^2 - 10x + 8$ bağıntısı veriliyor.
- $Q(x)$ polinomunun $(x-3)$ ile bölümünden kalan 6 olduğuna göre, $P(5)$ in değeri kaçtır?
- A) 106
B) 84
C) 67
D) 44
E) 36

3. $P(x) = 6x^4 + 2x^3 - 4mx - 16$ polinomunun $(x+1)$ ile tam bölünebilmesi için m kaç olmalıdır?
- A) -2
B) -1
C) 3
D) 4
E) 5

4. $P(x-2) = 3x^2 - 4x + 7$ olduğuna göre, $P(x)$ polinomunda sabit terim kaçtır?

A) 6
B) 11
C) 15
D) 22
E) 27

5. $P(x) = (3x^3 - 2x^2 + 1)^{m-3}$ polinomunda katsayılar toplamı 32 ise m kaçtır?

A) 1
B) 2
C) 3
D) 5
E) 8

6. $\frac{2}{3x+1} - \frac{1}{3x-1} + \frac{2}{9x^2-1}$ ifadesinin sadeleşmiş biçimi aşağıdakilerden hangisidir?

A) $\frac{4}{3x-2}$
B) $\frac{1}{3x+1} - \frac{1}{x}$
C) $\frac{2}{3x^2-2}$
D) $\frac{1}{3x+1}$
E) $\frac{3}{x^2-1}$

A

2012 3D 0101-A

7. $a - b = 3$ olduğuna göre,
 $(a-b).(a+c) + (b-a).(b+c)$ ifadesinin değeri kaçtır?

A) 36
 B) 25
 C) 16
 D) 12
 E) 9

8. $\frac{x+1}{2} - \frac{2x+1}{3} = x - \frac{x-2}{2}$ denkleminin çözüm kümesi aşağıdakilerden hangisidir?

A) $\left\{-\frac{5}{4}\right\}$
 B) $\left\{-\frac{3}{5}\right\}$
 C) $\left\{\frac{1}{4}\right\}$
 D) $\left\{\frac{11}{2}\right\}$
 E) $\{5\}$

9. $\frac{4x+1}{3x^2+5x-2} = \frac{A}{3x-1} + \frac{B}{x+2}$ özdeşliğinde A+B kaçtır?

A) -3
 B) -1
 C) 0
 D) 1
 E) 2

10. $\frac{12x+1}{x^2-x-12}$ rasyonel ifadesinin basit kesirlerin toplamı olarak yazılmış biçimi aşağıdakilerden hangisidir?

A) $\frac{2}{x-5} - \frac{3}{x+3}$
 B) $\frac{6}{x+2} - \frac{2}{x-4}$
 C) $\frac{7}{x-4} + \frac{5}{x+3}$
 D) $\frac{8}{x-2} - \frac{7}{x+2}$
 E) $\frac{9}{x-3} + \frac{4}{x+5}$

11. $x^4 + 3x^2 - 10 = 0$ denkleminin çözüm kümesi aşağıdakilerden hangisidir?

A) $\{-3, 4\}$
 B) $\{-\sqrt{2}, \sqrt{2}\}$
 C) $\left\{-\frac{1}{3}, \frac{1}{2}, 4\right\}$
 D) $\{-1, 1, -4\}$
 E) $\{-2, 3, 4\}$

12. $(m+1)x^2 - 3mx + 5m - 2 = 0$ denkleminin kökler toplamının kökler çarpımına eşit olması için m değeri kaç olmalıdır?

A) -4
 B) -3
 C) 0
 D) 1
 E) 2

2012 3D 0101-A

13. $5x + 3y = 8$
 $x - 6y = 17$

denklemin sisteminin çözüm kümesi aşağıdakilerden hangisidir?

A) $\left\{3, -\frac{7}{3}\right\}$

B) $\left\{\frac{5}{6}, \frac{11}{2}\right\}$

C) $\left\{\frac{1}{4}, 3\right\}$

D) $\{-2, 5\}$

E) $\{-7, 4\}$

14. $\frac{x+4}{x} = \frac{m-1}{m}$ denkleminde x aşağıdakilerden hangisidir?

A) 0

B) 2

C) $-4m$

D) $-m$

E) $3m$

15. Kökleri $x_1 = 5 - \sqrt{2}$ ve $x_2 = 5 + \sqrt{2}$ olan ikinci derece denklem aşağıdakilerden hangisidir?

A) $x^2 - 5\sqrt{2}x + 25$

B) $x^2 - 10x + 23$

C) $x^2 + 10x - 13$

D) $2x^2 - \sqrt{2}x - 10$

E) $2x^2 - 5x + 13$

16. $x^2 + 2(m+1)x + 1 = 0$ denkleminin pozitif iki kökünün olması için m ne olmalıdır?

A) $m < -2$

B) $m > 0$

C) $m > 3$

D) $-3 < m < 2$

E) $-1 < m < 1$

17. $f(x) = m^2x^2 - (m-1)x + \frac{1}{4}$ fonksiyonunun OX eksenine teğet olması için m aşağıdakilerden hangisi olmalıdır?

A) -2

B) $-\frac{1}{2}$

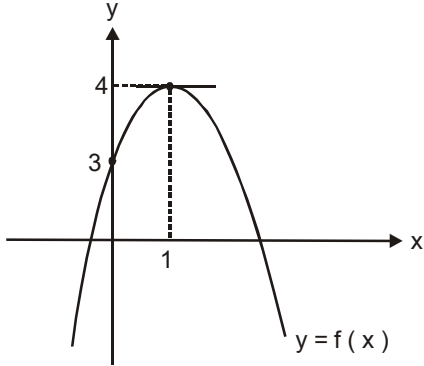
C) $\frac{1}{2}$

D) $\frac{3}{4}$

E) 2

2012 3D 0101-A

18.



Şekildeki parabolün denklemini aşağıdakilerden hangisidir?

- A) $y = -2x^2 - \frac{1}{2}x + 1$
 B) $y = -x^2 + 2x + 3$
 C) $y = x^2 + 8x - 10$
 D) $y = x^2 + 3x - 4$
 E) $y = 3x^2 - x + \frac{1}{3}$

19. $y = x^2 - 7x + 12$ fonksiyonunun gösterdiği tepe noktasının koordinatları aşağıdakilerden hangisidir?

- A) $\left(-\frac{1}{7}, \frac{3}{7}\right)$
 B) $\left(\frac{5}{6}, 2\right)$
 C) $(1, -2)$
 D) $\left(\frac{7}{2}, -\frac{1}{4}\right)$
 E) $\left(\frac{7}{2}, 6\right)$

20. OX eksenini A $(-4, 0)$ ve B $(5, 0)$ noktalarında, OY eksenini $(0, 10)$ noktasında kesen parabolün denklemini aşağıdakilerden hangisidir?

- A) $y = -\frac{1}{2}x^2 + \frac{1}{2}x + 10$
 B) $y = -\frac{1}{4}x^2 + 2x - 10$
 C) $y = 2x^2 - \frac{1}{2}x + 10$
 D) $y = 3x^2 - \frac{1}{3}x - 10$
 E) $y = 4x^2 - 3x + 10$

MATEMATİK 4

A

2012 3D 0101-A

1. Ölçümlerinden biri $\frac{101\pi}{8}$ radyan olan açının esas ölçüsü aşağıdakilerden hangisidir?
- A) $\frac{\pi}{2}$
B) $\frac{\pi}{4}$
C) $\frac{5\pi}{8}$
D) $\frac{3\pi}{16}$
E) $\frac{5\pi}{16}$
2. $m(\hat{A}) = 42^\circ 16' 53''$ ve $m(\hat{B}) = 15^\circ 49' 22''$ ise $m(\hat{A}) + m(\hat{B})$ işleminin sonucu kaçtır?
- A) $43^\circ 51' 8''$
B) $43^\circ 17' 8''$
C) $58^\circ 6' 15''$
D) $58^\circ 12' 21''$
E) $58^\circ 15' 5''$
3. 45682 saniyelik açı kaç derece, kaç dakika ve kaç saniyedir?
- A) $12^\circ 14' 34''$
B) $12^\circ 41' 22''$
C) $12^\circ 52' 15''$
D) $14^\circ 12' 22''$
E) $14^\circ 40' 14''$

4. $\frac{2\pi}{5}$ radyanın grad cinsinden değeri aşağıdakilerden hangisidir?
- A) 45
B) 60
C) 80
D) 90
E) 110
5. Ölçülerinden biri -2740° olan açının esas ölçüsü aşağıdakilerden hangisidir?
- A) 40°
B) 80°
C) 120°
D) 140°
E) 220°
6. 120° 'nin radyan cinsinden değeri aşağıdakilerden hangisidir?
- A) $\frac{\pi}{4}$
B) $\frac{\pi}{3}$
C) $\frac{\pi}{2}$
D) $\frac{2\pi}{3}$
E) $\frac{3\pi}{4}$

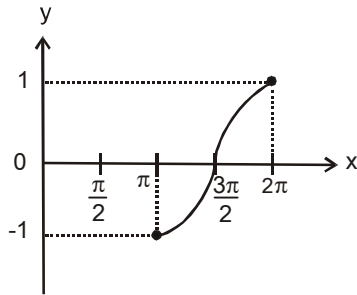
A

2012 3D 0101-A

7. Yarıçapı 45 cm lik olan çemberdeki 80° lik merkez açının gördüğü yayın uzunluğu kaç birimdir?

- A) 10π
B) 15π
C) 20π
D) 25π
E) 30π

8.



Şekildeki grafik, aşağıdaki fonksiyonlardan hangisinin $[\pi, 2\pi]$ aralığındaki grafiğidir?

- A) $f(x) = \tan x$
B) $g(x) = \cot x$
C) $h(x) = \sin x$
D) $k(x) = \cos x$
E) $m(x) = \sec x$

9. $\theta \in \left(0, \frac{\pi}{2}\right)$ ve $\sin \theta = \frac{2}{3}$ ise, $\cos \theta$ aşağıdakilerden hangisidir?

- A) $\frac{\sqrt{5}}{3}$
B) $\frac{2}{\sqrt{5}}$
C) $\frac{\sqrt{5}}{2}$
D) $\frac{3}{\sqrt{5}}$
E) $\frac{3}{2}$

10.

$$y = \sin^4 \left(\frac{5x}{2} + 3 \right) \text{ fonksiyonunun periyodu}$$

kaçtır?

- A) $\frac{\pi}{5}$
B) $\frac{\pi}{3}$
C) $\frac{2\pi}{5}$
D) $\frac{3\pi}{5}$
E) π

11. Bir ABC üçgeninde $a = 4\sqrt{3}$ cm ve $m(\hat{A}) = 60^\circ$ olduğuna göre, çevrel çemberin çevresi kaç π cm dir?

- A) 8
B) 10
C) 12
D) 16
E) 24

12. I. $\tan \theta \cdot \cos \theta = \sin \theta$
II. $\sec \theta \cdot \cot \theta = \cos \theta$
III. $\frac{\tan \theta}{\cot \theta} = 1$
IV. $\frac{\sin \theta}{\tan \theta} = \cos \theta$

Yukarıdaki trigonometrik özdeşliklerden hangileri doğrudur?

- A) Yalnız I
B) Yalnız III
C) I ve IV
D) II ve III
E) I, II ve IV

2012 3D 0101-A

13.

$\cos(\cos^{-1} \frac{1}{\sqrt{2}})$ ifadesinin değeri

aşağıdakilerden hangisine eşittir?

A) $-\frac{\sqrt{3}}{2}$

B) $-\frac{1}{\sqrt{3}}$

C) $\frac{\sqrt{3}}{2}$

D) $\frac{1}{\sqrt{2}}$

E) $\sqrt{3}$

14.

$\cos x = -\frac{1}{2}$ denkleminin R deki çözüm kümesi

aşağıdakilerden hangisidir?

A) $\left\{ x : x = \frac{\pi}{3} + 2k\pi \vee x = -\frac{\pi}{3} + 2k\pi, k \in \mathbf{Z} \right\}$

B) $\left\{ x : x = \frac{2\pi}{3} + 2k\pi \vee x = -\frac{2\pi}{3} + 2k\pi, k \in \mathbf{Z} \right\}$

C) $\left\{ -\frac{2\pi}{3}, \frac{2\pi}{3} \right\}$

D) $\left\{ -\frac{\pi}{3}, \frac{\pi}{3} \right\}$

E) $\left\{ -\frac{\pi}{4}, \frac{\pi}{4} \right\}$

15.

$\frac{6 \cdot \cos 54^\circ \cdot \cos 36^\circ}{4 \cdot \cos 18^\circ}$ işleminin sonucu kaçtır?

A) $-\frac{1}{2}$

B) $-\frac{1}{4}$

C) $\frac{1}{2}$

D) $\frac{3}{4}$

E) 1

16.

$\frac{\cos 40^\circ - \tan 30^\circ \cdot \sin 40^\circ}{\cot 45^\circ \cdot \cos 70^\circ}$ ifadesinin değeri kaçtır?

($\cos (A+B) = \cos A \cdot \cos B - \sin A \cdot \sin B$)

A) $\frac{1}{2}$

B) $\frac{\sqrt{2}}{2}$

C) $\frac{2}{\sqrt{3}}$

D) $\sqrt{3}$

E) 2

2012 3D 0101-A

17. $8\cos x - 6\sin x = 0$ ise $\sin 2x$ kaçtır?

$$(\sin 2x = 2\sin x \cdot \cos x)$$

- A) $\frac{3}{8}$
 B) $\frac{16}{25}$
 C) $\frac{24}{25}$
 D) 2
 E) $\frac{25}{6}$

18. $\frac{\sin 12x + \sin 4x + \sin 8x}{1 + \cos 4x + \cos 8x}$ ifadesinin sadeleşmiş biçimi aşağıdakilerden hangisidir?

$$\left(\begin{array}{l} \sin x + \sin y = 2 \sin \frac{x+y}{2} \cdot \cos \frac{x-y}{2} \\ \cos 2x = 2 \cos^2 x - 1 \\ \sin 2x = 2 \sin x \cdot \cos x \end{array} \right)$$

- A) $\sin 3x$
 B) $\cos 4x$
 C) $1 + \sin 2x$
 D) $1 + \cos 2x$
 E) $2 \sin 4x$

19. $\tan(2\pi - \theta) = -\tan \theta$ özdeşliğinden yararlanarak; $\tan 660^\circ$ nin trigonometrik değeri aşağıdakilerden hangisidir?

- A) $-\sqrt{3}$
 B) $-\frac{\sqrt{3}}{2}$
 C) $-\sqrt{2}$
 D) $\frac{1}{2}$
 E) 1

20. $\sin 2a = 2\sin a \cdot \cos a$

$$\cos 2a = 1 - 2\sin^2 a$$

olduğuna göre; $\frac{\cos 2a - \sin a - 1}{\sin 2a + \cos a}$ ifadesinin sadeleşmiş biçimi aşağıdakilerden hangisidir?

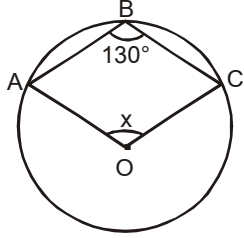
- A) $\sin a$
 B) $-\tan a$
 C) $-\sin a + \cos a$
 D) $\cot a$
 E) $\cos^2 a$

GEOMETRİ 2

A

2012 3D 0101-A

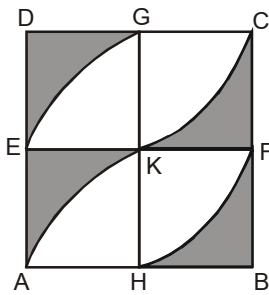
1.



Yukarıdaki O merkezli çemberde $m(\widehat{ABC}) = 130^\circ$ ise, x kaç derecedir?

- A) 95
- B) 100
- C) 105
- D) 110
- E) 115

2.

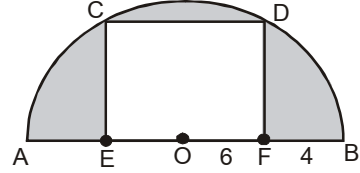


Yukarıda kenar uzunluğu 12 cm olan ABCD karesinin içine dörtte bir daire dilimleri çizilmiştir. $|AH| = |HB| = |BF|$ dir.

Buna göre, taralı bölgelerin alanları toplamı kaç cm^2 dir?

- A) $36 - 9\pi$
- B) $72 - 18\pi$
- C) $108 - 27\pi$
- D) $136 - 32\pi$
- E) $144 - 36\pi$

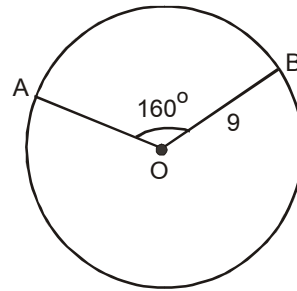
3.



Yukarıdaki O merkezli yarım dairenin içine EFDC dikdörtgeni çizilmiştir. $|AE| = |FB|$, $|OF| = 6 \text{ cm}$, $|FB| = 4 \text{ cm}$ ise, taralı bölgelerin alanları toplamı kaç cm^2 dir?

- A) $100\pi - 96$
- B) $100\pi - 80$
- C) $50\pi - 96$
- D) $50\pi - 36$
- E) $25\pi - 36$

4.



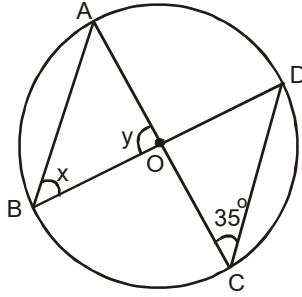
Yukarıdaki O merkezli, 9 cm yarıçaplı daireden elde edilen daire diliminde $m(\widehat{AOB}) = 160^\circ$ ise, $A(\widehat{AOB})$ kaç cm^2 dir?

- A) 18π
- B) 24π
- C) 32π
- D) 36π
- E) 45π

A

2012 3D 0101-A

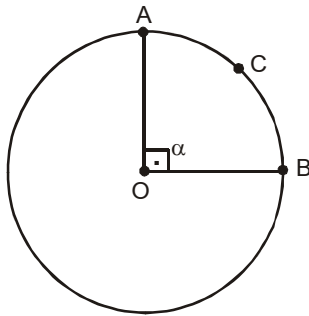
5.



Yukarıdaki O merkezli çemberde $m(\widehat{ACD}) = 35^\circ$ ise, $x + y$ kaç derecedir?

- A) 120
- B) 130
- C) 135
- D) 140
- E) 145

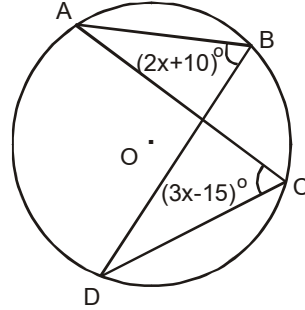
6.



Yukarıdaki O merkezli çemberde $\alpha = 90^\circ$ ve $|\widehat{ACB}| = 4\pi$ cm ise, bu çemberin yarıçapı kaç cm dir?

- A) 8
- B) 6
- C) 5
- D) 4
- E) 3

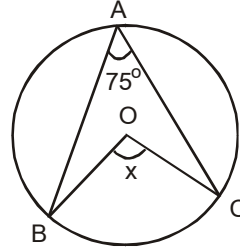
7.



Yukarıdaki O merkezli çemberde $m(\widehat{DCA}) = (3x - 15)^\circ$ ve $m(\widehat{ABD}) = (2x + 10)^\circ$ ise, x kaç derecedir?

- A) 15
- B) 20
- C) 25
- D) 30
- E) 35

8.



Yukarıdaki O merkezli çemberde $m(\widehat{BAC}) = 75^\circ$ ise, $m(\widehat{BOC}) = x$ açısı kaç derecedir?

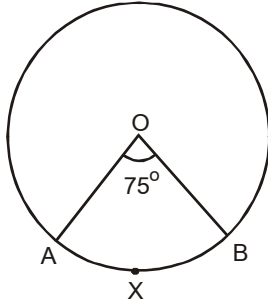
- A) 100
- B) 105
- C) 120
- D) 140
- E) 150

9. Yarıçapı 6 br olan küre biçimindeki bir deniz topunun içinde kaç $\pi \text{ br}^3$ hava vardır?

- A) 36
- B) 72
- C) 144
- D) 288
- E) 576

2012 3D 0101-A

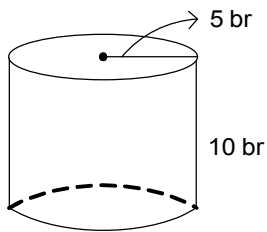
10.



Yukarıdaki O merkezli 16 cm yarıçaplı çemberde $m(\widehat{AOB}) = 75^\circ$ ise, \widehat{AXB} uzunluğu kaç cm dir?

- A) $\frac{23\pi}{3}$
- B) $\frac{20\pi}{3}$
- C) $\frac{24\pi}{5}$
- D) $\frac{25\pi}{6}$
- E) $\frac{14\pi}{5}$

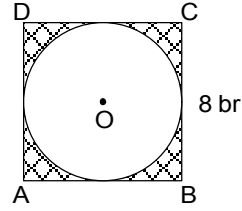
11.



Yukarıdaki dik dairesel silindirin yarıçapı 5 br, yüksekliği 10 br olduğuna göre, silindirin yüzey alanı kaç πbr^2 dir?

- A) 50
- B) 75
- C) 100
- D) 150
- E) 200

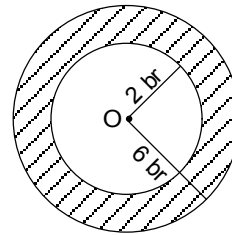
12.



Yukarıdaki ABCD karesinin bir kenar uzunluğu 8 br'dir. Bu karenin içine, kenarlara teğet olacak biçimde O merkezli bir daire çizilmiştir. Buna göre, şekildeki taralı bölgenin alanı kaç br^2 dir?

- A) $8-2\pi$
- B) $16-2\pi$
- C) $16-4\pi$
- D) $64-8\pi$
- E) $64-16\pi$

13.

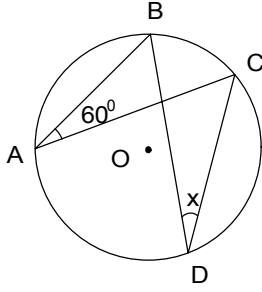


Yukarıda O merkezli ve yarıçapları sırasıyla 2 br ve 6 br olan dairelerin arasında kalan alan kaç πbr^2 dir?

- A) 2
- B) 8
- C) 16
- D) 32
- E) 36

2012 3D 0101-A

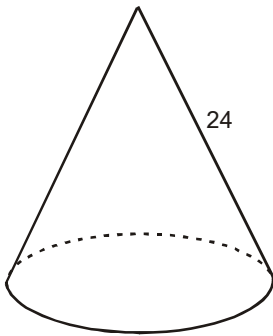
14.



Yukarıdaki O merkezli çemberde $m(\widehat{BAC}) = 60^\circ$ ise, $m(\widehat{CDB}) = x$ kaç derecedir?

- A) 30
- B) 45
- C) 60
- D) 90
- E) 120

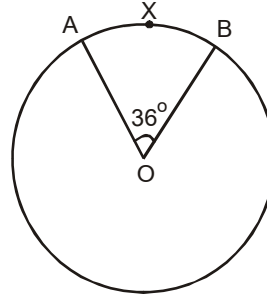
15.



Yukarıdaki dik dairesel koni biçimindeki karton şapkanın tabanının yarıçapı 4 cm, ana doğru parçasının uzunluğu 24 cm dir. Şapkayı yapmak için kaç cm^2 karton gerekir?

- A) 86π
- B) 96π
- C) 112π
- D) 116π
- E) 126π

16.



Yukarıda O merkezli dairede $m(\widehat{AOB}) = 36^\circ$ ve $|\widehat{AXB}| = 2\pi$ cm ise, bu dairenin alanı kaç cm^2 dir?

- A) 36π
- B) 49π
- C) 64π
- D) 100π
- E) 144π

17. Hacmi 36π br^3 olan bir kürenin yarıçapı kaç birimdir?

- A) 3
- B) 5
- C) 6
- D) 8
- E) 9

18. Yarıçapı 12 cm olan bir kürenin yüzey alanı kaç cm^2 dir?

- A) 524π
- B) 548π
- C) 552π
- D) 576π
- E) 582π

19. Yüksekliği 15 cm olan ve hacmi 960π cm^3 olan dik dairesel silindirin taban yarıçapı kaç cm dir?

- A) 5
- B) 6
- C) 8
- D) 9
- E) 10

20. Yüksekliği 15 cm yarıçapı 5 cm olan dik dairesel koninin hacmi kaç π cm^3 tür?

- A) 145
- B) 140
- C) 135
- D) 130
- E) 125

ALMANCA 1

A

2012 3D 0101-A

Bu testin cevaplarını, cevap anahtarında
YABANCI DİL 1 sütununa işaretleyiniz.

1. Das ist Tante und hier ist Mann.
Sie haben drei Kinder.

Welche Wörter passen in die obigen Lücken?

**Cümlede boş bırakılan yerleri
aşağıdakilerden hangileri doğru şekilde
tamamlar?**

- A) sein / dessen
- B) unsere / seine
- C) deine / sie
- D) ihrem / ihre
- E) meine / ihr

2. Dudu: Hallo Tina! Ich habe Trinken wir
etwas?
Tina: Ja, das ist eine gute Idee.

Welches ergänzt die Lücke im obigen Dialog?

**Verilen karşılıklı konuşmada boş bırakılan
yeri aşağıdakilerden hangisi tamamlar?**

- A) Hunger
- B) Durst
- C) Schmerzen
- D) Arbeit
- E) Hausaufgaben

3. Dreizehn sechs ist sieben.

Welches Wort paßt in die obige Lücke?

**Cümlede boş bırakılan yeri aşağıdakilerden
hangisi doğru şekilde tamamlar?**

- A) plus
- B) durch
- C) macht
- D) mal
- E) minus

4. -Was ist dein?
-Ich schwimme sehr gern.

Welches ergänzt die Lücke im obigen Dialog?

**Verilen karşılıklı konuşmada boş bırakılan
yeri aşağıdakilerden hangisi tamamlar?**

- A) Sport
- B) Freizeit
- C) Wohnort
- D) Alter
- E) Hobby

5. Wir gehen ins Theater. Kommst du mit?

**Wie kann man die obigen Sätze mit "wollen"
verbinden?**

**Verilen cümlelerin "wollen" ile birleştirilmiş
hali aşağıdakilerden hangisidir?**

- A) Er war im Theater, wollt ihr auch gehen?
- B) Er geht ins Theater, will sie auch kommen?
- C) Wollen Sie kommen, wir gehen ins Theater?
- D) Wir gehen ins Theater, willst du mitkommen?
- E) Wir gehen heute ins Theater, wolltet ihr auch gehen?

6. Meine Freundin ist September nicht
mehr in Deutschland.

Welches Wort paßt in die obige Lücke?

**Cümlede boş bırakılan yeri aşağıdakilerden
hangisi doğru şekilde tamamlar?**

- A) hindurch
- B) ab
- C) zu
- D) für
- E) bei

A

2012 3D 0101-A

7. Es ist kalt draußen,

Welches ergänzt die Lücke im obigen Satz?

Verilen cümleyi aşağıdakilerden hangisi tamamlar?

- A) ich mach das Fenster zu.
- B) ihm die Zeitung bringen.
- C) er will seine Sachen einpacken.
- D) gleich darfst du etwas essen.
- E) du kannst früh ins Bett gehen.

8. Die Sekretärin spricht die Termine ab.

Wie lautet der obige Satz im Perfekt?

Verilen cümlelerin di' li geçmiş zaman şekli aşağıdakilerden hangisidir?

- A) Die Sekretärin sprach die Termine ab.
- B) Die Sekretärin soll die Termine absprechen.
- C) Die Sekretärin hatte die Termine abgesprochen.
- D) Die Sekretärin wollte die Termine absprechen.
- E) Die Sekretärin hat die Termine abgesprochen.

9. A: Bist du müde? ich dir helfen?
B: Ja, danke. Du kannst die Küche aufräumen.

Welches ergänzt die Lücke im obigen Dialog?

Verilen karşılıklı konuşmada boş bırakılan yeri aşağıdakilerden hangisi tamamlar?

- A) Solltest
- B) Möchten
- C) Kann
- D) Will
- E) Sollen

10. Mein Sohn kommt erst 18.00 Uhr nach Hause.

Welches Wort paßt in die obige Lücke?

Cümlede boş bırakılan yeri aşağıdakilerden hangisi doğru şekilde tamamlar?

- A) gegen
- B) seit
- C) hindurch
- D) von
- E) am

11. Die Mädchen finden meine Haare sehr merkwürdig.

Wie lautet der obige Satz im Präteritum?

Verilen cümlelerin geçmiş zaman şekli aşağıdakilerden hangisidir?

- A) Die Mädchen sollten meine Haare sehr merkwürdig finden.
- B) Die Mädchen findeten meine Haare sehr merkwürdig.
- C) Die Mädchen fanden meine Haare sehr merkwürdig.
- D) Die Mädchen können meine Haare sehr merkwürdig finden.
- E) Die Mädchen haben meine Haare sehr merkwürdig gefunden.

12. Ich muß meinen Regenschirm nehmen, es draußen regnet.

Welches Wort paßt in die obige Lücke?

Cümlede boş bırakılan yeri aşağıdakilerden hangisi doğru şekilde tamamlar?

- A) wenn
- B) ob
- C) daß
- D) wann
- E) wo

13. Hans: Vati, hast du meine Schlüssel gesehen?
Vater: Nein, ist er nicht
Jackentasche?
Hans: Nein, da ist er nicht.
Vater: Ist er vielleicht Tisch?
Hans: Ach ja, dort ist er!

Welches ergänzt die Lücke im obigen Dialog?

Verilen karşılıklı konuşmada boş bırakılan yeri aşağıdakilerden hangisi tamamlar?

- A) in der / auf dem
- B) auf dem / unter dem
- C) vor dem / neben dem
- D) über dem / hinter dem
- E) aus dem / in dem

2012 3D 0101-A

14. Sie nicht vor der Garage!

Welches Wort paßt in die obige Lücke?**Cümlede boş bırakılan yeri aşağıdakilerden hangisi doğru şekilde tamamlar?**

- A) Legen
- B) Hängen
- C) Parken
- D) Gehen
- E) Setzen

15. Auf den Tisch hier, bitte!

Welche Frage paßt zur obigen Antwort?**Verilen cevabı gerektirecek soru aşağıdakilerden hangisidir?**

- A) Wieviel kostet die Reparatur?
- B) Wie teuer ist der Computer?
- C) Wohin soll ich den Computer stellen?
- D) Wo ist der Tisch?
- E) Woher haben Sie den Computer gekauft?

16. Die Wohnung ist groß, aber das Haus ist

Welches Wort paßt in die obige Lücke?**Cümlede boş bırakılan yeri aşağıdakilerden hangisi doğru şekilde tamamlar?**

- A) am größer
- B) größer
- C) größten
- D) viel groß
- E) größest

17. Der Arzt untersucht den Kranken.

Wie lautet der obige Satz in der Passivform?**Verilen cümlelerin passif şekli aşağıdakilerden hangisidir?**

- A) Der Kranke ist untersucht worden.
- B) Der Arzt hat den Kranken zu untersuchen.
- C) Der Arzt hätte den Kranken untersucht.
- D) Der Kranke wird von dem Arzt untersucht.
- E) Der Kranke könnte vom Arzt untersucht werden.

18. Vor der Tür uns..... Haus..... steht ein fremder Mann.

Welche Endungen passen in die obigen Lücken?**Cümlede boş bırakılan yerlere aşağıdaki sonelerden hangisi gelmelidir?**

- A) -es / -es
- B) -eres / -es
- C) -erem / -en
- D) -erer / -er
- E) -en / -en

19. Sie fragt, ich mir die Hände gewaschen habe.

Welches Wort paßt in die obige Lücke?**Cümlede boş bırakılan yeri aşağıdakilerden hangisi doğru şekilde tamamlar?**

- A) dass
- B) weil
- C) denn
- D) ob
- E) damit

20. Das Wetter ist kalt wie gestern, gestern war es

Welche Wörter passen in die obigen Lücken?**Cümlede boş bırakılan yerleri aşağıdakilerden hangileri doğru şekilde tamamlar?**

- A) sehr / kalt
- B) so / besser
- C) genau / warm
- D) nicht so / kälter
- E) wie / kälter

FRANSIZCA 1

A

2012 3D 0101-A

Bu testin cevaplarını, cevap anahtarında
YABANCI DİL 1 sütununa işaretleyiniz.

1. Je suis passé par votre ville.

Choisissez la traduction qui convient.

Yukarıdaki cümlelerin Türkçe karşılığı
aşağıdakilerden hangisidir?

- A) Sizin şehre de uğrayacağım.
- B) Şehriniz çok güzel.
- C) Sizi şehirde bekliyorum.
- D) Şehrinize geleceğim.
- E) Şehrinizden geçtim.

2. Il un frère et une soeur.

Choisissez le mot qui convient.

Cümledeki boşluğu aşağıdakilerden hangisi
doğru şekilde tamamlar?

- A) son
- B) a
- C) ont
- D) sa
- E) est

3. -?
- Non, j'ai acheté de la farine.

Choisissez la question qui convient.

Yukarıdaki konuşmada cevabı gerektiren
soru aşağıdakilerden hangisidir?

- A) Qu'est-ce qu'elle a acheté
- B) Quand est-ce que tu as acheté ça
- C) Combien as-tu payé
- D) Avez-vous aimé cette boisson
- E) As-tu acheté du beurre

4. Ils ont leurs devoirs.

Choisissez le mot qui convient.

Cümledeki boşluğu aşağıdakilerden hangisi
doğru şekilde tamamlar?

- A) finies
- B) finis
- C) finie
- D) finir
- E) fini

5. Bu müzeyi daha önce ziyaret ettiniz mi?

Choisissez la traduction qui convient.

Yukarıdaki cümlelerin Fransızca karşılığı
aşağıdakilerden hangisidir?

- A) Vous travaillez dans ce musée?
- B) Vous aimez les musées?
- C) Vous aimez visiter les musées?
- D) Vous avez déjà visité ce musée?
- E) Vous n'avez pas encore visité ce musée?

6. Je ne fume plus.

Choisissez la traduction qui convient.

Yukarıdaki cümlelerin Türkçe karşılığı
aşağıdakilerden hangisidir?

- A) Sigarayı bırakmak istiyorum.
- B) Artık sigara içmiyorum.
- C) Hiç sigara içmedim.
- D) Henüz sigarayı bırakamadım.
- E) Sigara içmeyin.

7. - Vous connaissez ce jeune homme ?
- Non, je ne connais pas.

Choisissez le mot qui convient.

Yukarıdaki konuşmada boş bırakılan yeri
aşağıdakilerden hangisi doğru şekilde
tamamlar?

- A) le
- B) la
- C) lui
- D) les
- E) me

A

2012 3D 0101-A

8. Nous avons une voiture.

Choisissez le mot qui convient.

Cümledeki boşluğu aşağıdakilerden hangisi doğru şekilde tamamlar?

- A) ont
B) était
C) mon
D) avez
E) eu

9. - Vous avez quelque chose à dire?
- Non, je n'ai à dire.

Choisissez le mot qui convient.

Yukarıdaki konuşmada boş bırakılan yeri aşağıdakilerden hangisi doğru şekilde tamamlar?

- A) toujours
B) déjà
C) rien
D) ni
E) jamais

10. Tu vu le dernier film de Ron Howard?

Choisissez le mot qui convient.

Cümledeki boşluğu aşağıdakilerden hangisi doğru şekilde tamamlar?

- A) as
B) a
C) est
D) es
E) vas

11. Si vous m'écoutez attentivement, vous bien.

Choisissez le mot qui convient.

Cümledeki boşluğu aşağıdakilerden hangisi doğru şekilde tamamlar?

- A) comprenons
B) avez compris
C) comprendrez
D) comprendrai
E) comprendront

12. Elle des lunettes de soleil.

Choisissez le mot qui convient.

Cümledeki boşluğu aşağıdakilerden hangisi doğru şekilde tamamlar?

- A) porte
B) est
C) as
D) pèse
E) voyage

13. - est votre veste?
- Elle est en laine.

Choisissez le mot qui convient.

Yukarıdaki konuşmada boş bırakılan yeri aşağıdakilerden hangisi doğru şekilde tamamlar?

- A) En quoi
B) À quoi sert
C) Combien
D) Quel
E) De quelle couleur

14. I. Je me réveille à 7 heures du matin.
II. Je prends mon petit déjeuner.
III. Je me couche tard.
IV. Je m'habille.
V. Je sors de la maison à 8 heures.

Choisissez la phrase qui ne convient pas à l'ensemble.

Sırasıyla okunduğunda anlam bütünlüğünü bozan cümle aşağıdakilerden hangisidir?

- A) I
B) II
C) III
D) IV
E) V

2012 3D 0101-A

15. - Tu t'es lavé?
- Non, je ne suis pas encore lavé.

Choisissez le mot qui convient.

Yukarıdaki konuşmada boş bırakılan yeri aşağıdakilerden hangisi doğru şekilde tamamlar?

- A) se
- B) elle
- C) me
- D) te
- E) lui

16. Elles les cheveux longs.

Choisissez le mot qui convient.

Cümledeki boşluğu aşağıdakilerden hangisi doğru şekilde tamamlar?

- A) sont
- B) ont
- C) sommes
- D) portez
- E) avons

17. Nous n'attendons personne.

Choisissez l'antonyme du mot souligné.

Yukarıdaki cümlede altı çizili sözcüğün zıt anlamlısı aşağıdakilerden hangisidir?

- A) pas encore
- B) quelque chose
- C) jamais
- D) quelqu'un
- E) aucun

18. Elles sont à dix heures.

Choisissez le mot qui convient.

Cümledeki boşluğu aşağıdakilerden hangisi doğru şekilde tamamlar?

- A) arrivent
- B) arrivées
- C) arrivé
- D) arrivés
- E) arrivée

19. les enfants aiment jouer aux jeux en ligne.

Choisissez le mot qui convient.

Cümledeki boşluğu aşağıdakilerden hangisi doğru şekilde tamamlar?

- A) Tout
- B) Si
- C) On
- D) Tous
- E) Toutes

20. Quand levez-vous?

Choisissez le mot qui convient.

Cümledeki boşluğu aşağıdakilerden hangisi doğru şekilde tamamlar?

- A) me
- B) se
- C) nous
- D) vous
- E) te

İNGİLİZCE 1

A

2012 3D 0101-A

**Bu testin cevaplarını, cevap anahtarında
YABANCI DİL 1 sütununa işaretleyiniz.**

1. The baby hasn't his milk yet.

Which of the following completes the sentence above?

Aşağıdakilerden hangisi yukarıdaki cümleyi doğru olarak tamamlar ?

- A) drank
- B) drink
- C) drinking
- D) drinks
- E) drunk

2. John French while his wife was washing the dishes.

Which of the following completes the sentence above?

Aşağıdakilerden hangisi yukarıdaki cümleyi doğru olarak tamamlar ?

- A) have studied
- B) was studying
- C) is studying
- D) should study
- E) will study

3. Brenda : we go to a picnic today?
Jack : Yes, that's a good idea.

Which of the following completes the dialogue above?

Aşağıdakilerden hangisi yukarıdaki konuşmayı doğru olarak tamamlar ?

- A) Did
- B) Does
- C) Has
- D) Would
- E) Shall

4. Peter is 120 cm tall. Mike is 140 cm tall. Peter is than Mike.

Which of the following completes the sentence above?

Aşağıdakilerden hangisi yukarıdaki cümleyi doğru olarak tamamlar?

- A) older
- B) bigger
- C) cleverer
- D) taller
- E) shorter

5. This is the expensive hotel I have ever stayed in.

Which of the following completes the sentence above?

Aşağıdakilerden hangisi yukarıdaki cümleyi doğru olarak tamamlar?

- A) more
- B) worst
- C) many
- D) most
- E) much

6. He is on the phone now.

Which of the following completes the sentence above?

Aşağıdakilerden hangisi yukarıdaki cümleyi doğru olarak tamamlar ?

- A) talk
- B) talking
- C) talked
- D) talks
- E) has talked

A

2012 3D 0101-A

7. I am going to a good breakfast at 7:30.

Which of the following completes the sentence above?

Aşağıdakilerden hangisi yukarıdaki cümleyi doğru olarak tamamlar ?

- A) have
- B) had
- C) has
- D) having
- E) will have

8. What time does the film?

Which of the following completes the sentence above?

Aşağıdakilerden hangisi yukarıdaki cümleyi doğru olarak tamamlar ?

- A) starting
- B) started
- C) have started
- D) starts
- E) start

9. Everbody was when the teacher came.

Which of the following completes the sentence above?

Aşağıdakilerden hangisi yukarıdaki cümleyi doğru olarak tamamlar ?

- A) shouted
- B) shout
- C) shouting
- D) shouts
- E) have shouted

10. She probably go to the park tomorrow.

Which of the following completes the sentence above?

Aşağıdakilerden hangisi yukarıdaki cümleyi doğru olarak tamamlar ?

- A) will
- B) are
- C) is
- D) have
- E) had

11. This is my pencil. Where is Nick's?

Which of the following can be used for the underlined word?

Aşağıdakilerden hangisi altı çizili sözcüğün yerine kullanılabilir?

- A) yours
- B) mine
- C) his
- D) her
- E) theirs

12. Jack: How tea is there in the box?
Bob: There is

Which of the following completes the dialogue above?

Aşağıdakilerden hangisi yukarıdaki konuşmayı doğru olarak tamamlar ?

- A) much / a little
- B) many / any
- C) more / little
- D) much / few
- E) many / a few

13. George: You haven't been to Spain yet,
you?
Jane: No, I haven't.

Which of the following completes the dialogue above?

Aşağıdakilerden hangisi yukarıdaki konuşmayı doğru olarak tamamlar ?

- A) have
- B) had
- C) did
- D) do
- E) will

2012 3D 0101-A

14. The coffee is hot for me to drink.

Which of the following completes the sentence above?

Aşağıdakilerden hangisi yukarıdaki cümleyi doğru olarak tamamlar?

- A) many
- B) either
- C) too
- D) some
- E) much

15. Saat onbire çeyrek var.

Which of the following is the English translation of the sentence above?

Aşağıdakilerden hangisi yukarıdaki cümlemin İngilizce karşılığıdır?

- A) It's half past eleven.
- B) It's twenty to eleven.
- C) It's quarter to eleven.
- D) It's eleven o'clock.
- E) It's quarter past eleven.

16. George hasn't seen his daughter December.

Which of the following completes the sentence above?

Aşağıdakilerden hangisi yukarıdaki cümleyi doğru olarak tamamlar?

- A) ago
- B) since
- C) for
- D) many
- E) from

17. I haven't been there years.

Which of the following completes the sentence above?

Aşağıdakilerden hangisi yukarıdaki cümleyi doğru olarak tamamlar?

- A) ago
- B) since
- C) after
- D) for
- E) before

18. Özkan : I close the window?
Teacher : Yes, of course.

Which of the following completes the sentence above?

Aşağıdakilerden hangisi yukarıdaki cümleyi doğru olarak tamamlar?

- A) Did
- B) May
- C) Does
- D) Has
- E) Have

19. The children have been TV since 10 o'clock.

Which of the following completes the sentence above?

Aşağıdakilerden hangisi yukarıdaki cümleyi doğru olarak tamamlar?

- A) watched
- B) will watch
- C) is watching
- D) watching
- E) watch

20. Mr. Gül driving a car for a year.

Which of the following completes the sentence above?

Aşağıdakilerden hangisi yukarıdaki cümleyi doğru olarak tamamlar?

- A) have been
- B) have
- C) has
- D) has been
- E) had

2012 3D 0101-A

1. Sosyolojide grup dışından evliliğe ne ad verilmektedir?

- A) Egzogami
- B) Endogami
- C) Poliandri
- D) Poligami
- E) Polijini

2. Kültürün devamlılığını ve yaygınlığını sağlamada en önemli araç aşağıdakilerden hangisidir?

- A) Ağıtlar
- B) Yazı
- C) Görsel sanatlar
- D) Müzik
- E) Törenler

3. Türk kadını milletvekili olma hakkını hangi yılda elde etmiştir?

- A) 1908
- B) 1923
- C) 1924
- D) 1926
- E) 1934

4. I. Kişinin, kendi kültürünü temel alarak, diğer kültürleri kendi kültürü açısından değerlendirmesidir.
II. Aşırıya kaçılması durumunda bu görüş karşılıklı anlayış ve hoşgörüyü kabul etmez.
III. Irkçılık bu anlayışa bir örnektir.

Yukarıda verilenlerle anlatılmak istenen kavram aşağıdakilerden hangisidir?

- A) Kültürel merkeziyetçilik
- B) Kültürel yayılma
- C) Kültürel yozlaşma
- D) Kültürel değişme
- E) Kültürel etkileşim

5. Karma ekonomi düzeni ile ilgili aşağıdaki ifadelerden hangisi doğrudur?

- A) Serbest rekabet ve şahsi teşebbüs bu sistemin temelinde yer alır.
- B) Üretim vasıtalarının tamamı devletin elindedir.
- C) Kapitalist sistemin zaman içinde değişmesi ile ortaya çıkmıştır.
- D) Sınırsız kazanç fikri söz konusudur.
- E) Sosyal ben duygusu egemendir.

6. I. Çekirdek ya da modern aile olarak da adlandırılır.
II. Anne, baba ve evlenmemiş çocuklardan oluşur.
III. Sanayi toplumlarında, özellikle kentlerde görülür.
IV. Temel öğeleri eşler olup, çocuklar evlenince aileden ayrılır.

Yukarıda verilenlerle anlatılmak istenen aile türü aşağıdakilerden hangisidir?

- A) Anaerkil aile
- B) Küçük aile
- C) Ataerkil aile
- D) Büyük aile
- E) Geniş aile

7. I. Toplumsallaştırma işlevi
II. Psikolojik işlev
III. Ekonomik işlev
IV. Cinsel davranışların düzenlenmesi işlevi

Yukarıdakilerden hangileri ailenin temel işlevlerindendir?

- A) I ve II
- B) II ve III
- C) I, II ve III
- D) II, III ve IV
- E) I, II, III ve IV

8. İş bölümü "işlerin farklılaşmasına bağlı olarak farklı işlerin farklı kişilerce yapılmasıdır."

Buna göre, aşağıdakilerden hangisi iş bölümünün sağladığı yararlardan biri değildir?

- A) Yabancılaşmaya neden olması
- B) Emek ve zamandan tasarruf sağlaması
- C) Kişiyi, yetenekli olduğu alanda çalışma olanağı sağlaması
- D) Toplum üyeleri arasında işbirliğini geliştirmesi
- E) Bireylerin başarı ve verimlilik düzeyini artırması

9. Doğal zenginliklerden yoksun kalmak, toplumsal değişmeye neden olmaktadır.

Buna göre, bir toplumda ormanların yok edilmesi, teknolojinin doğal dengeyi bozacak biçimde kullanılması, aşağıdakilerden hangisine yol açmaz?

- A) Doğal afetlere
- B) Çevre kirliliğine
- C) Nüfusun artmasına
- D) İç göçlere
- E) Ekonomik etkinliklerin azalmasına

2012 3D 0101-A

10. Temel özellikleri kâr elde etme, piyasa ekonomisi ve özel mülkiyet olan ekonomik düzen aşağıdakilerden hangisidir?

- A) Sosyalizm
- B) Tekelci piyasa ekonomisi
- C) Karma ekonomi
- D) Kapitalizm
- E) Komünizm

11. Siyasal yönetim şekilleri ile ilgili aşağıdaki tanımlamalardan hangisi yanlıştır?

- A) İktidarın tek bir kişinin elinde olduğu yönetim şekline monarşi denir.
- B) Egemenliğin kaynağını "mutlak güçten" yani "Tanrı'dan alan yönetim şekline oligarşi denir.
- C) İktidarın "soyluların" ya da "din adamlarının" elinde bulunduğu yönetim şekline aristokrasi denir.
- D) Gücünü halkın egemenliğinden alan yönetim şekline demokrasi denir.
- E) Dinsel kurallara göre düzenlenen yönetim şekline teokrasi denir.

12. Aşağıdakilerden hangisi "Medeni Kanun"a göre boşanma nedenlerinden biri değildir?

- A) Geçimsizlik
- B) Zina
- C) Cana kast
- D) Din değiştirme
- E) Akıl hastalığı

13. I. Eşitlik
II. Özgürlük
III. Adalet

Yukarıdakilerden hangileri demokratik yönetimin en önemli ölçütlerindendir?

- A) Yalnız I
- B) Yalnız II
- C) I ve II
- D) II ve III
- E) I, II ve III

14. Aşağıdakilerden hangisi örgütlenmiş yapı olarak devletin temel işlevleri arasında yer almaz?

- A) Bireylerin hak ve özgürlüklerini güvence altına almak
- B) İç ve dış tehlikelere karşı ülkenin bağımsızlığını korumak
- C) Bireylerin hak ve özgürlüklerinden kaynaklanan dinsel inançların egemenliğini sağlamak
- D) Kanunlar yapmak ve uygulamak
- E) Vatandaşların ekonomik, sosyal ve kültürel ihtiyaçlarını gidermek

15. Aşağıdakilerden hangisi Atatürkçü düşünce sistemini oluşturan ilkelerden biri değildir?

- A) Cumhuriyetçilik
- B) Milliyetçilik
- C) Devletçilik
- D) Çağdaşçılık
- E) Halkçılık

16. I. Fiziki çevre
II. Bilim ve teknoloji
III. Kültür
IV. Kitle iletişim araçları

Yukarıdakilerden hangileri toplumsal değişmeyi etkileyen faktörlerdendir?

- A) I ve II
- B) II ve III
- C) II ve IV
- D) I, II ve III
- E) I, II, III ve IV

17. İlkel toplumdan tarım toplumuna, tarım toplumundan sanayi toplumuna geçiş aşağıdakilerden hangisi ile ifade edilir?

- A) Örgütlenme
- B) Evrim
- C) Değişme
- D) Devrim
- E) Genişleme

18. Toplumsal hayatın her alanında büyümeyi ve genişlemeyi anlatmak için kullanılan kelime aşağıdakilerden hangisidir?

- A) Rasyonelleşme
- B) Örgütlenme
- C) İlerleme
- D) Gelişme
- E) Çağdaşlaşma

19. Toplamlar "bedevî" toplumdan "hadarî" topluma doğru gelişme gösterir diyen düşünür aşağıdakilerden hangisidir?

- A) İbn-i Haldun
- B) Farabi
- C) İbn-i Sina
- D) Ömer Hayam
- E) Ahmet Yesevi

20. Misyonerler, tüccarlar, kaşifler, göçmenler aracılığıyla gerçekleşen kültürel yayılma aşağıdakilerden hangisine neden olabilir?

- A) Kültürel aktarmaya
- B) Kültürel değişmeye
- C) Kültürel yozlaşmaya
- D) Kültürleşmeye
- E) Kültürleşmeye

TURİZM 1

A

2012 3D 0101-A

1. I. Ulaşım araçlarını kullanmak
II. Eğlence, yeme, içme yerlerine gitmek
III. Tarihi, turistik yerleri gezmek
IV. Hediyelik eşya almak

Yukarıdakilerden hangileri turistin görmek istediği yerlere giderken para harcadığı faaliyetlerdir ve turizmin ekonomik yönünü ortaya koymaktadır?

- A) II ve IV
- B) III ve IV
- C) I, II ve III
- D) II, III ve IV
- E) I, II, III ve IV

2. Turizmin önemine ilişkin aşağıdaki ifadelerden hangisi yanlıştır?

- A) Turizm, ülkelerin kalkınmasını olumlu yönde etkilemektedir.
- B) Türkiye'nin dış ticaret açığını gidermede önemli bir rol oynamaktadır.
- C) Turizm ülkelerarası ticari düzenleyici bir etkidir.
- D) Yurt dışında iş imkanları yaratmaktadır.
- E) Turistik seyahatler sonucunda ülkeler döviz geliri elde etmektedir.

3. Aşağıdakilerden hangisi sosyal bilimlerin bir alt dalı olarak kabul edilmektedir?

- A) Turizm
- B) Tarihi zenginlikler
- C) Milli kültür
- D) Manevi değerler
- E) Demografi

4. Turizm kavramının kökeni Latince'de; "dönmek, hareket etmek, dolaşmak" anlamına gelen hangi kelimeden türetilmiştir?

- A) Tomus
- B) Tour
- C) Tur
- D) Transit
- E) Snobizm

5. I. Turizm, bir hizmet sektörüdür.
II. Turizm, boş zamanları değerlendirme faaliyetidir.
III. Turizm faaliyetinin temelinde insan vardır.
IV. Turizm, yol, köprü gibi alt yapı, tatil köyü, yat limanı gibi üst yapı yatırımlarını gerektirir.

Yukarıdakilerden hangileri turizmin başlıca özellikleri arasında yer alır?

- A) I ve II
- B) I ve III
- C) I, II ve III
- D) I, III ve IV
- E) I, II, III ve IV

6. Aşağıdakilerden hangisi seyahat ettiği halde turist olarak kabul edilemez?

- A) Ticari nedenlerle seyahat edenler
- B) Ülkeye iş sözleşmesi ile gelip, bir iş yapmak veya bir işte çalışmak isteyenler
- C) Bir başka ülkede kamu amaçlı görevlendirilen kimseler
- D) Bir sınır bölgesinde ikamet edenler ve başka bir ülkede yaşayıp komşu ülkeye çalışmak için gelenler
- E) Ülkeye yerleşmek, devamlı kalmak için gelenler

7. Din turizmi açısından büyük bir potansiyele sahip ülkemizde Yahudiler için kutsal kabul edilen yer aşağıdakilerden hangisidir?

- A) Meryem Ana Evi
- B) Neve Şalom Sinagogu
- C) Sumela Manastırı
- D) Topkapı Müzesi
- E) Yerebatan Samıcı

A

2012 3D 0101-A

8. Aşağıdakilerden hangisi bir toplumun sahip olduğu kültürel zenginliklerinden biri değildir?

- A) Halk dansları
- B) Müzik
- C) El sanatları
- D) Yer altı kaynakları
- E) Tarihi eserler

9. Aşağıdakilerden hangisi insanların dinlenmek ve eğlenmek amacıyla katıldıkları turizm hareketlerinden biri değildir?

- A) Yat gezilerine katılmak
- B) Gürültüsüz kıyılarda konaklayarak denize girmek
- C) Eğlence işletmelerine gitmek
- D) Mesleki seminerlere katılmak
- E) Doğal güzellikleri görmek

10. I. Romatizma
II. Astım, bronşit
III. Bel ağrısı

Volkanik deprem kuşağı üzerinde olan ülkemizin yukarıdaki rahatsızlıklardan hangilerine şifa sağlayan kaynaklar turistlerin ilgisini çekmektedir?

- A) Yalnız I
- B) Yalnız II
- C) I ve II
- D) II ve III
- E) I, II ve III

11. I. Ticaret
II. Sağlık
III. Din

Yukarıdakilerden hangileri ilk çağın seyahat nedenleridir?

- A) Yalnız I
- B) Yalnız II
- C) I ve II
- D) II ve III
- E) I, II ve III

12. Rönesans çağında turizme aşağıdakilerden hangisi örnek verilebilir?

- A) Haçlı seferleri
- B) Macellan'ın dünya seyahati
- C) Hac ziyareti
- D) Marco Polo'nun seyahati
- E) Evliya Çelebi'nin seyahati

13. Aşağıdakilerden hangisi II.Dünya Savaşı'nın turizme olumsuz etkilerinden biri değildir?

- A) Sosyal refahı azaltması
- B) Seyahat etmenin güvenilirliğini azaltması
- C) Ulaştırma araçlarının teknolojisinin ilerlemesi
- D) Seyahat özgürlüğünü kısıtlaması
- E) Ekonomik özgürlüğü azaltması

14. Sınıf farkı gözetilen toplumlarda, imtiyazlı ve satın alma gücü yüksek olan soylu kişilerin, turizm hareketlerine katılmalarına ne ad verilir?

- A) Kişisel turizm
- B) Kitle turizmi
- C) Aristokratik turizm
- D) Rekreasyon turizmi
- E) Sosyal turizm

15. Aşağıdakilerden hangisi kişisel turizmden kitle turizmine geçişin başlaması ve kitle turizminin gelişmesindeki etkenlerden biri değildir?

- A) Grup turlarının gerçekleştirilmesi
- B) Dar gelirli vatandaşları turizme yönlendirici önlemlerin alınması
- C) Turist sayısının az, tesislerin pahalı olması
- D) Az konforlu ve ucuz turistik tesislerin kurulması
- E) Büyük kapasiteli turistik tesislerin yapılması

2012 3D 0101-A

16. Turizme katılan kişilerin kendi ülke sınırları içinde doğal ve kültürel değerlerini öğrenmelerine, sevmelerine yardımcı olan turizm şekline ne ad verilir?

- A) Grup turizmi
- B) Ulusal turizm
- C) Sosyal turizm
- D) Üçüncü yaş turizmi
- E) Gençlik turizmi

17. I. Rafting
II. Doğa yürüyüşü
III. Kamp kurma
IV. Yatla gezinti

Yukarıdakilerden hangileri akarsu turizminin amaçlarını içerir?

- A) Yalnız I
- B) I ve II
- C) II ve III
- D) I, II ve III
- E) II, III ve IV

18. Aşağıdakilerden hangisi yüksek gelir gruplarına özgü turizm türüdür?

- A) Selektif turizm
- B) Sosyal turizm
- C) Aktif dış turizm
- D) Pasif dış turizm
- E) Kültür turizmi

19. Geniş kitlelerin oluşturduğu grupların paket turları tercihlerinden oluşan turizm türüne ne ad verilir?

- A) Ferdi turizm
- B) Grup turizmi
- C) Kitle turizmi
- D) Aktif dış turizm
- E) İç turizm

20. Aşağıdakilerden hangisi sosyal turizmin amaçlarından biri değildir?

- A) Barış içinde yaşamının kitlelere ulaşan bir bilince dönüşmesi
- B) Konaklama tesisleri arasında bağlantı kurulması
- C) Diğer insanlarla kendini kıyaslama ve sosyal kaynaşma alışkanlığının kazandırılması
- D) Sosyal eşitliğin sağlanması
- E) Yaşlılar için yeniden aktif bir yaşam ortamının yaratılması

DİL VE ANLATIM 5

A

2012 3D 0101-A

1. Aşağıdakilerden hangisi "kişisel hayatı konu alan metinler"den biridir?

- A) Anı
- B) Mesnevi
- C) Sohbet
- D) Röportaj
- E) Destan

2. Aşağıdakilerden hangisi öğretici metinler içerisinde yer almaz?

- A) Biyografi
- B) Haber yazısı
- C) Mesnevi
- D) Tarihi metinler
- E) Bilimsel metinler

3. Sanatta, edebiyatta, bilimde, politikada veya başka alanlarda tanınmış kişilerin yaşamlarını anlatan yazı türüne ne ad verilir?

- A) Günlük
- B) Biyografi
- C) Deneme
- D) Hikaye
- E) Anı

4. Günlük ve anı ile ilgili olarak aşağıdakilerden hangisi söylenemez?

- A) Anıların geçmişe yönelik olduğu
- B) Günlüklerin günü gününe yazıldığı
- C) Günlüklerde öznelğin ağır bastığı
- D) Anıların öğretici ve bilgi verici olduğu
- E) Anılarda anlatılanların belgelerle kanıtlandığı

5. Resmi mektuplarla ilgili verilen bilgilerden hangisi yanlıştır?

- A) Alt makamdaki birisi üst makama yazıyorsa rica ederim ifadesini kullanır.
- B) Mektup sonunda sağ tarafa imza atılır ve imzalayanın ismi yazılır.
- C) Çizgisiz ve beyaz kağıt kullanılır.
- D) Üst makam yetkilisi alt makama yazıyorsa rica ederim ifadesi kullanılır.
- E) Başlık, metin ve son kısım olmak üzere üçe ayrılır.

6. Edebiyatımızın gezi türündeki ilk ve en büyük eseri olan Seyahatname eserinin yazarı olan gezgin kimdir?

- A) Pierre Loti
- B) Marco Polo
- C) Katip Çelebi
- D) Edip Ahmet Yükneki
- E) Evliya Çelebi

7. Bir yazarın özgürce seçtiği bir konu üzerinde kesin yargılara varmadan kişisel görüş ve düşüncelerini serbestçe anlattığı yazılara ne ad verilir?

- A) Makale
- B) Deneme
- C) Öykü
- D) Mesnevi
- E) Sohbet

8. Bugün Eskişehir() e kar yağmış() ama ben görmedim () Sen gördün mü()

Yukarıdaki cümlelerde parantez içlerine sırasıyla hangi noktalama işaretleri gelmelidir?

- A) (') (!) (,) (?)
- B) (,) (.) (:) (.)
- C) (') (:) (?), (?)
- D) (,) (.) (?) (!)
- E) (') (:) (.) (?)

9. Makale türü Türk edebiyatına hangi dönemde girmiştir?

- A) Islahat
- B) Cumhuriyet
- C) Meşrutiyet
- D) Tanzimat
- E) Fetret

10. Haber yazıları ile ilgili aşağıdakilerden hangisi yanlıştır?

- A) Kolay anlaşılır olmalıdır.
- B) Anlatılanlar ilgi çekici olmalıdır.
- C) Haber yazılarının günlük ve önemli olması gerekir.
- D) Yazılar spor, sanat, ekonomi gibi çeşitli alanlar hakkında olabilir.
- E) Yazan kişi yorumunu da habere katmalıdır.

A

2012 3D 0101-A

11. Dilekçeye ilişkin verilen bilgilerden hangisi yanlıştır?

- A) Dilekçe bitiminde sağ alt köşeye imza atılır.
- B) Dilekçe yazmanın amaçlarından biri de bir şikayeti duyurmaktır.
- C) Dilekçeye tarih atılması gerekli değildir.
- D) Dilekçe ile birlikte verilecek ekler varsa dilekçe sonunda adresin altına ekler başlığı altında sıralanır.
- E) Kurşun kalemle dilekçe yazılmaz.

12. Aşağıdaki cümlelerin hangisinde ek olan "ki" ve bağlaç olan "ki" sözcüğünün yazımında yanlılık yapılmıştır?

- A) Sanki her tarafta var bir düşün.
- B) Halbuki ona gerçekleri anlatacaktı.
- C) Parası o kadar çok ki neye harcayacağını bilmiyor.
- D) Gitmek istedik buralarda duramadı.
- E) Mademki yoksun, bu dünya dursun.

13. Aşağıdakilerden hangisinde ünsüz yumuşaması (sert sessiz yumuşaması) gerçekleşmemiştir?

- A) Ocağı kapatmayı unutmuş.
- B) Suçu başkasına atıyor.
- C) Sokağı döndüm.
- D) Dolaba saklanmış.
- E) Sevincimiz büyüktü.

14. Aşağıdaki cümlelerin hangisinde dünya sözcüğü terim anlamıyla kullanılmıştır?

- A) Öyle sıkıldım ki artık dünyamdan geçtim.
- B) Kafası allak bullak olmuş, dünyadan bihaber.
- C) Dünya kadar işim var.
- D) Ay, Dünya'nın uydusudur.
- E) Ah ne yalan dünya bu ya.

15. Aşağıdaki deyimlerin hangisinde ünl düşmesine uğrayan bir sözcük yoktur?

- A) Bahtı açık
- B) Bağrı yanık
- C) Aklını çelmek
- D) Ağzı sıkı
- E) Göğsü kabarmak

16. Aşağıdaki cümlelerden hangisinde cümlede yer alan tamlama türü yanlı verilmiştir?

- A) Bilgisayarın klavyesinin tuşları kırıldı. (Zincirleme isim tamlaması)
- B) Elmanın çekirdeklerini atma. (Belirtili isim tamlaması)
- C) Karanfilin kokusu kalmamış. (Takısız isim tamlaması)
- D) Çorbaya sıcak su konulur. (Sıfat tamlaması)
- E) Bahçede çocuk sesleri duyulmaz oldu. (Belirtisiz isim tamlaması)

17. Aşağıdaki cümlelerin hangisinde göz sözcüğü ilk anlamıyla kullanılmıştır?

- A) Yaptığı yanlışlarla gözümde düştü.
- B) Anahtar çantanın gözüne girmiş.
- C) Çorbanın üstü göz göz olunca altını kapat.
- D) Gözüm iki gündür çok ağrıyor.
- E) Aferin, gözüme girdin.

18. Aşağıdaki cümlelerden hangisinde zıt anlamlı kelimeler bir arada kullanılmamıştır?

- A) Az veren candan çok veren maldan verir.
- B) Uzun uzun yolları aşım geldim.
- C) Basketbol takımında uzun ve kısa öğrenciler bir aradaydı.
- D) Karanlıktan aydınlığa ancak eğitimle çıkılır.
- E) Bu gürültüden bıktım, sessizliğe nasıl ihtiyacım var.

19. Aşağıdaki cümlelerin hangisinde "de"nin kullanımıyla ilgili bir yazım yanlı yapılmıştır?

- A) Umut çölde bir vahadır.
- B) Gidip de dönmek var.
- C) Bu yağmur da gidilir mi?
- D) Ayakta durmakta zorlanıyor.
- E) Sevgide riya olur mu?

20. Aşağıdakilerden hangisi özel mektup çeşitlerinden biri değildir?

- A) Edebi mektuplar
- B) Tebrik mektupları
- C) Teşekkür mektupları
- D) Aile mektupları
- E) Davet mektupları

2012 3D 0101-A

1. $^{35}_{17}\text{Cl}^{-1}$ iyonunun proton (p), elektron (e) ve nötron (n) sayısı ilişkisi, aşağıdakilerden hangisinde doğru verilmiştir?

A) $e=p<n$
 B) $e>n>p$
 C) $e=n>p$
 D) $e=n<p$
 E) $e=p=n$

2. S^{-2} ile K^{+1} iyonları eşit sayıda elektron içermektedir. K'nın atom numarası 19 olduğuna göre, S'nin atom numarası kaçtır?

A) 16
 B) 17
 C) 20
 D) 22
 E) 23

3. Nötr bir atom, 2 elektron aldığı zaman aşağıdaki açıklamalardan hangisi söylenebilir?

A) +2 yüklü iyon olur.
 B) Kütle numarası artar.
 C) Proton sayısı, elektron sayısından iki fazla olur.
 D) Atom numarası değişmez.
 E) Nötron sayısı artar.

4. Aşağıdakilerden hangisi ametallerin ortak özelliklerinden biri değildir?

A) Metallerle ve kendi aralarında bileşik oluşturmaları
 B) Isı ve elektriği iyi iletmeleri
 C) Erime ve kaynama noktalarının düşük olması
 D) Oda koşullarında katı, sıvı ve gaz halinde olmaları
 E) Yüzeylerinin mat olması

5. Periyodik cetvelde 8A grubunda bulunan elementlerle ilgili;

I. Oda koşullarında hepsi gaz halinde bulunur.
 II. Son yörüngelerinde 8 elektron bulunur.
 III. Kimyasal özellikleri aynıdır.

Yargılarından hangileri kesinlikle doğrudur?

A) Yalnız I
 B) Yalnız II
 C) I ve II
 D) I ve III
 E) II ve III

6. Atom numarası 19 olan K elementi periyodik cetvelin hangi periyot ve hangi grubunda yer alır?

	Periyot	Grup
A)	3	1A
B)	4	1A
C)	3	3A
D)	4	4A
E)	3	6A

7. Klor atomunun $^{35}_{17}\text{Cl}^{-1}$ ve $^{37}_{17}\text{Cl}^{+7}$ gibi izotopları bilinmektedir.

Buna göre, farklı yüklü izotop iyonlarla ilgili olarak;

I. Elektron sayıları farklıdır.
 II. Atom numaraları aynıdır.
 III. Fiziksel özellikleri farklıdır.

İfadelerinden hangileri doğrudur?

A) Yalnız I
 B) Yalnız II
 C) I ve III
 D) II ve III
 E) I, II ve III

2012 3D 0101-A

16. I. $\text{SO}_2 - \text{SO}_3$
 II. $\text{C}_2\text{H}_4 - \text{C}_4\text{H}_8$
 III. $\text{NO} - \text{CO}_2$

Yukarıdaki bileşik çiftlerinden hangileri katlı oranlar yasasına uymaz?

- A) Yalnız II
 B) Yalnız III
 C) I ve II
 D) I ve III
 E) II ve III

17. $_{17}\text{Cl}^{-1}$ iyonunun elektron dizilişi aşağıdakilerden hangisidir?

- A) $1\text{S}^2 2\text{S}^2 2\text{P}^6 3\text{S}^2 3\text{P}^5$
 B) $1\text{S}^2 2\text{S}^2 2\text{P}^6 3\text{S}^2 3\text{P}^6$
 C) $1\text{S}^2 2\text{S}^2 2\text{P}^6 3\text{P}^7$
 D) $1\text{S}^2 2\text{S}^2 2\text{P}^4 3\text{S}^2 3\text{P}^6$
 E) $1\text{S}^2 2\text{S}^2 2\text{P}^5 3\text{S}^2 3\text{P}^5$

18. $_{35}^{74}\text{X}^{-1}$ iyonu ile ilgili aşağıdakilerden hangisi söylenemez?

- A) Proton sayısı 35 dir.
 B) Nötron sayısı 39 dur.
 C) Atom numarası 35 dir.
 D) Kütle numarası 74 dür.
 E) Elektron sayısı 34 dür.

19. Aşağıda verilen atom çiftlerinden hangisi birbirinin izotopu değildir?

- A) $_{11}^{23}\text{Na} - _{11}^{24}\text{Na}$
 B) $_{29}^{63}\text{Cu} - _{29}^{65}\text{Cu}$
 C) $_{17}^{35}\text{Cl} - _{17}^{36}\text{Cl}$
 D) $_{30}^{65}\text{Zn} - _{29}^{65}\text{Cu}$
 E) $^1_1\text{H} - ^2_1\text{H}$

20. $_{10}\text{X}$, $_{11}\text{Y}$ ve $_{12}\text{Z}$ elementleri ile ilgili

- I. Her üçü de aynı periyottadır.
 II. Atom çapı en büyük Y dir.
 III. Değerlik elektron sayıları sırasıyla 8, 1, 2 dir.

yargılarından hangileri doğrudur?

- A) Yalnız I
 B) Yalnız II
 C) I ve II
 D) I ve III
 E) II ve III

2012 3D 0101-A

1. Canlıları benzerliklerine ve akrabalık derecesine göre sınıflandırarak inceleyen bilim dalına ne ad verilir?

- A) Histoloji
- B) Biyokimya
- C) Taksonomi
- D) Genetik
- E) Morfoloji

2. Aşağıdakilerden hangisi nitel bir gözlemdir?

- A) Bugün hava güneşlidir.
- B) Su 100 °C de kaynar.
- C) Çocuk 45 kg ağırlığındadır.
- D) Adam 175 cm boyundadır.
- E) Kadın 52 yaşındadır.

3. Canlıların zaman içinde geçirdikleri değişimi inceleyerek meydana gelen değişiklikleri ve yeni türlerin oluşumunu açıklayan bilim dalı aşağıdakilerden hangisidir?

- A) Anatomi
- B) Evrim
- C) Sitoloji
- D) Embriyoloji
- E) Ekoloji

4. Aşağıdakilerden hangisi bilim adamında bulunması gereken özelliklerden biri değildir?

- A) Kararlı olması
- B) İyi gözlemci olması
- C) Gerçekçi olması
- D) Önyargılı olması
- E) Dikkatli olması

5. Aşağıdakilerden hangisi 1610 yılında ilk mikroskobun yapımını gerçekleştiren bilim adamıdır?

- A) Mendel
- B) Hooke
- C) Galileo
- D) Darwin
- E) Watson

6. Aşağıdakilerden hangisi ekosistemde görülen döngülerden biri değildir?

- A) Su
- B) Amonyak
- C) Oksijen
- D) Karbon
- E) Azot

- 7. I. Işık
- II. İklim
- III. Su
- IV. Toprak

Yukarıdakilerden hangileri canlıları etkileyen abiyotik etmenlerdendir?

- A) Yalnız I
- B) Yalnız III
- C) I ve II
- D) II, III ve IV
- E) I, II, III ve IV

8. Aşağıdakilerden hangisi su kirliliğine karşı alınacak önlemlerden biri değildir?

- A) Temizlik için bol deterjan kullanılmalı
- B) Sanayi tesisleri yerleşim yerlerinden uzakta olmalı
- C) Tarımda aşırı gübreleme yapılmamalı
- D) Evsel atıklar suya karışmadan önce arıtılmalı
- E) Sanayi atıkları arıtıldıktan sonra çevreye bırakılmalı

9. Aşağıdakilerden hangisi radyasyondan korunmada alınması gereken tedbirlerden biri değildir?

- A) Nükleer silahlar kontrol altına alınmalı
- B) Nükleer denemeler yasaklanmalı
- C) İnsanlara eğitim verilmeli
- D) Teşhis ve tedavide belli kontrol ve standartlarda olan makineler kullanılmalı
- E) Güneş enerjisi yerine nükleer enerji kullanılmalı

10. Parazit yaşam ile ilgili aşağıdaki ifadelerden hangisi doğrudur?

- A) Bir arada yaşayan canlıların ikisi de bu birliktelikten yarar görür.
- B) Alg ve mantar parazit yaşam sürerler.
- C) Bir arada yaşayan canlılardan biri bu birliktelikten zarar, diğeri yarar görür.
- D) Bir arada yaşayan canlıların ikisi de bu birliktelikten zarar görür.
- E) Likenler parazit yaşama örnek oluştururlar.

2012 3D 0101-A

11. Aşağıdakilerden hangisi toprak kirliliğine karşı alınacak önlemlerden biri değildir?

- A) Sanayi tesisleri ve yerleşim alanları verimli tarım alanlarına kurulmalıdır.
- B) Toplum, ormanların korunması konusunda eğitilmelidir.
- C) Tarım ilaçlarının yanlış uygulaması önlenmelidir.
- D) Evsel, sanayi ve hastane atıkları toprağa zarar vermeyecek şekilde depolanmalıdır.
- E) Nükleer enerji kullanımı bilinçli bir şekilde yapılmalıdır.

12. Biyolojik saat ile ilgili aşağıdaki ifadelerden hangisi yanlıştır?

- A) Hormon salgısı biyolojik saate göre değişmektedir.
- B) Beyinde hipotalamus tarafından kontrol edilir.
- C) Vücut sıcaklığı biyolojik saate göre değişmektedir.
- D) Bütün hayvanlarda biyolojik saat aynıdır.
- E) Biyolojik ritmi düzenler.

13. Aşağıdakilerden hangisi günlük döngüdür?

- A) Menstrüasyon
- B) Ağaçların yaprak dökmesi
- C) Kuşların göç etmesi
- D) Ağaçların çiçek açması
- E) İnsan uykusu

14. Aşağıdakilerden hangisi bitkilerde tropizma hareketlerinden biri değildir?

- A) Bitki köklerinin suya yönelmesi
- B) Bitki çiçeklerinin akşam açılıp gündüz kapanması
- C) Bitki köklerinin yer çekimine doğru yönelmesi
- D) Bitki köklerinin suda çözünmüş olan kimyasal maddelere yönelmesi
- E) Bitkinin ışığa yönelmesi

15. İçgüdü ile ilgili aşağıdaki ifadelerden hangisi yanlıştır?

- A) Kedinin fareyi yakalama tepkisi iç güdüseldir.
- B) Doğuştan kazanılır.
- C) Organizma belli bir uyarıya karşı aynı tepkiyi oluşturur.
- D) İç güdü çevreden etkilenir.
- E) Öğrenme ile değişip farklılaşır.

16. Kullanılan organın geliştiği, kullanılmayanın ise zayıfladığını ve köreldiğini ileri süren bilim adamı aşağıdakilerden hangisidir?

- A) Lamarck
- B) Darwin
- C) Pastör
- D) Mendel
- E) Hooke

17. Aşağıdakilerden hangisi evrimi destekleyen morfolojiden elde edilen kanıttır?

- A) Yakın akraba olan türlerde genetik yapı benzerliğinin olması
- B) Türler arasında kökenleri aynı, görevleri farklı organlar olması
- C) Birçok türün embriyolojik gelişiminde birbirine benzer evrelerin görülmesi
- D) Canlılarda benzer olan kimyasal reaksiyonların akrabalık derecelerini açıklaması
- E) Canlıların kimyasal ve fizyolojik işleyişlerinde benzerlikler olması

18. Heterotrof görüşe göre, ilk atmosferde aşağıdakilerden hangisi yoktur?

- A) Metan
- B) Hidrojen
- C) Serbest halde oksijen
- D) Su buharı
- E) Amonyak

19. Aşağıdakilerden hangisi hayatın başka gezegenlerden dünyaya gelen bazı spor veya tohumlarla başladığını savunan görüştür?

- A) Abiyogenez
- B) Yaratılış
- C) Heterotrof
- D) Panspermia
- E) Ototrof

20. Aşağıdakilerden hangisi canlıların kendiliğinden var olabildiği görüşünü savunan bilim adamıdır?

- A) Redi
- B) Pastör
- C) Lamark
- D) Darwin
- E) Aristo

1.



2012 3D 0101-A

8. RNA'da aşağıdaki bazlardan hangisi bulunmaz?

- A) Guanin
- B) Urasil
- C) Timin
- D) Sitozin
- E) Adenin

9. Aşağıdakilerden hangisi fermantasyonla oksijenli solunumun ortak özelliği değildir?

- A) Glikozun hammadde olması
- B) Enzimlerin kullanılması
- C) ATP'nin üretilmesi
- D) CO₂'nin açığa çıkması
- E) H₂O'nun açığa çıkması

10. Yeterli aminoasitlerinin bulunduğu ortamda protein sentezi için aşağıdakilerden hangisi gerekli değildir?

- A) DNA
- B) Enzim
- C) mRNA
- D) Lizozom
- E) Ribozom

11. Aşağıdakilerden hangisi DNA'nın özelliklerinden biri değildir?

- A) Ribozomlara bilgi götürür ve protein sentezini başlatır.
- B) Hücre bölünmesini başlatır.
- C) Gametlerde vücut hücrelerinin yarısı kadar DNA bulunur.
- D) DNA polimeraz enzimi ile eşlenir.
- E) Vücut hücrelerinin tümünde aynı miktarda bulunur.

12. Aşağıdakilerden hangisi endotermik reaksiyonlardan biri değildir?

- A) Biyosentez
- B) Aktivasyon enerjisi
- C) Hareket, kasılma
- D) Sinirsel iletim
- E) Oksijenli solunum

13. Reaksiyon sonucunda ısı açığa çıkmasına ne ad verilir?

- A) Biyosentez
- B) Aktif taşıma
- C) Ekzotermik reaksiyon
- D) Isı enerjisi
- E) Endotermik reaksiyon

14. Aşağıdakilerden hangisi DNA ile RNA arasındaki farklardan biri değildir?

- A) Kimi özel durumlar dışında RNA'da tek iplik, DNA'da çift iplik bulunur.
- B) RNA'da DNA'daki timin bazı yerine urasil bazı bulunur.
- C) DNA kendini eşleyebilir, RNA kendini eşleyemez.
- D) RNA'da deoksiriboz şekeri varken DNA'da riboz şekeri vardır.
- E) RNA, RNA polimeraz enzimi ile DNA'daki genetik bilgiye göre sentezlenir.

15. DNA'nın I. ipliğindeki azotlu organik bazların dizilişi G-G-C-T-A-A-T-C şeklinde ise II. ipliğindeki dizilişi aşağıdakilerden hangisidir?

- A) C-C-G-A-T-T-A-G
- B) T-T-A-G-C-C-G-A
- C) G-G-C-A-T-T-A-G
- D) A-A-T-C-G-G-C-T
- E) C-C-A-G-A-A-T-C

2012 3D 0101-A

16. Kemosentetik ototrof canlılar, organik besin sentezi için gerekli olan kimyasal enerjiyi okside ederek elde ettikleri inorganik maddelerden biri değildir?

- A) Demir
- B) Amonyak
- C) Nitrit
- D) Hidrojen sülfür
- E) Oksijen

17. Fotosentez olayı ökoryot canlıların aşağıdaki organellerinden hangisinde gerçekleşir?

- A) Mitokondri
- B) Lizozom
- C) Ribozom
- D) Kloroplast
- E) Golgi aygıtı

18. Aşağıdakilerden hangisi fotosentez hızını etkileyen çevresel faktörlerden biri değildir?

- A) Işık şiddeti
- B) Klorofil miktarı
- C) CO₂ (karbondioksit) yoğunluğu
- D) Sıcaklık
- E) Işığın dalga boyu

19. Aşağıdaki olaylardan hangisi yeşil bir bitki hücresinde görülmez?

- A) Substrat düzeyinde fosforilasyon
- B) Devirli fosforilasyon
- C) Kemosentetik fosforilasyon
- D) Devirsiz fosforilasyon
- E) Oksidatif fosforilasyon

20. Bir çok hücrenin oksijen yokluğunda veya yetersizliğinde glikozu etil alkol veya laktik aside kadar parçalayarak enerji elde etmesine ne denir?

- A) Aktivasyon enerjisi
- B) Fermentasyon
- C) Glikoliz
- D) Fotosentez
- E) Fosforilasyon

DEMOKRASİ VE İNSAN HAKLARI 1

A

2012 3D 0101-A

1. Aşağıdakilerden hangisi bir tüzel kişi değildir?

- A) Siyasi partiler
- B) Vakıflar
- C) Ticari kuruluşlar
- D) Toplumsal gruplar
- E) Dernekler

2. Kuvvetler ayrılığı düşüncesini savunarak devletin mutlak gücünü kişi hak ve özgürlükleri karşısında sınırlandırmayı savunan ve toplum sözleşmesi anlayışını geliştiren düşünür kimdir?

- A) Erasmus
- B) Bodin
- C) Copernic
- D) Machiavelli
- E) Rousseau

3. Din, mezhep, etnik köken, asalet, servet, makam vb. gözetilmeksizin kişilerin yasalar karşısında eşit muamele görmesine ne ad verilir?

- A) Hukuki eşitlik
- B) Hukuki düzen
- C) Temel hak
- D) Adalet
- E) Düzen

4. Magna Carta Libertatum (Büyük Özgürlük Fermanı) hangi tarihte imzalanmıştır?

- A) 1215
- B) 1345
- C) 1415
- D) 1545
- E) 1615

5. Halkın seçmen olabilmesi için ırk, servet, cinsiyet, yetenek gibi şartların aranmadığı oy türü aşağıdakilerden hangisidir?

- A) Doğal
- B) Genel
- C) Denetimsiz
- D) Pozitif
- E) Temsili

6. Seçmen olmanın vergi ödemek gibi belli şartlara bağlandığı oy türü aşağıdakilerden hangisidir?

- A) Genel
- B) Temsili
- C) Çoğulcu
- D) Kısıtlı
- E) Listeli

7. Birleşmiş Milletler Örgütü'nün ilk denetim organı aşağıdakilerden hangisidir?

- A) Kadınlara Karşı Ayrımcılığın Kaldırılması Komitesi
- B) Ekonomik Sosyal ve Kültürel Haklar Komitesi
- C) İşkenceye Karşı Komite
- D) Irk Ayrımcılığının Kaldırılması Komitesi
- E) Çocuk Hakları Komitesi

8. Aşağıdakilerden hangisi isteme haklarından biri değildir?

- A) Toplu iş sözleşmesi hakkı
- B) Çalışma hakkı
- C) Konut hakkı
- D) Dinlenme hakkı
- E) Yaşama hakkı

9. Amerikan bağımsızlık bildirgesi hangi tarihte ilan edilmiştir?

- A) 24 Ekim 1686
- B) 24 Ekim 1717
- C) 4 Temmuz 1776
- D) 4 Temmuz 1851
- E) 24 Kasım 1908

10. Türk kadınlarına seçme ve seçilme hakkı hangi yıl çıkarılan yasayla verilmiştir?

- A) 1923
- B) 1925
- C) 1934
- D) 1945
- E) 1950

A

2012 3D 0101-A

11. Üyelerinin düşünce ve menfaatlerini gerçekleştirmek için iktidarı kısmen ya da tamamen elde etmek amacıyla siyasi hayata katılan gruba ne ad verilir?

- A) Sendika
- B) Toplumsal kurum
- C) Bürokrasi
- D) Siyasi parti
- E) Demek

12. Avrupa İnsan Hakları Mahkemesi'nin kararlarının yerine getirilmesini denetleyen, yılda iki kez toplanan ve siyasi yaptırıma sahip olan denetim organı aşağıdakilerden hangisidir?

- A) Kıdemli Memurlar Komitesi
- B) Bakanlar Komitesi
- C) Çatışma Önleme Komitesi
- D) Danışma Komitesi
- E) Delegeler Komitesi

13. Birleşmiş Milletler'de "İşkenceye ve Başka Zalimce İnsanlık Dışı ya da Onur Kırıcı Ceza ya da Davranışlara Karşı Sözleşme" hangi tarihte kabul edilmiştir?

- A) 24 Kasım 1972
- B) 24 Temmuz 1979
- C) 10 Aralık 1984
- D) 10 Nisan 1989
- E) 1 Ekim 1995

14. ILO hangi yıl ve nerede kurulmuştur?

- A) 1915 İngiltere
- B) 1919 İsviçre
- C) 1932 Almanya
- D) 1939 Amerika Birleşik Devletleri
- E) 1945 Fransa

15. Aşağıdakilerden hangisi herkesin dininin gereklerini özgürce yaşayabilmesinin önkoşuludur?

- A) Devletçilik
- B) Milliyetçilik
- C) Tek kültürlülük
- D) Ekonomik kalkınmışlık
- E) Laiklik

16. Batıda Rönesans adı verilen dönem hangi yüzyılda ortaya çıkmaya başlamıştır?

- A) 11.
- B) 13.
- C) 15.
- D) 17.
- E) 19.

17. Aşağıdakilerden hangisi Atatürk İnkılabının dayandığı ilkelerden biri değildir?

- A) Milliyetçilik
- B) İnkılâpçılık
- C) Devletçilik
- D) Halkçılık
- E) Seçkincilik

18. Bir ülkede yaşayan, bir devlete vatandaşlık bağı ile bağlı ve kendini o ülkenin kaderine bağlamış insanlardan oluşan bütüne ne ad verilir?

- A) Topluluk
- B) Halk
- C) Örgüt
- D) Irk
- E) Grup

19. Bir ülkede belli bir dönemde geçerli olan kuralların zorla ve köklü bir değişikliğe tabi tutularak yerine yenilerinin getirilmesine ne ad verilir?

- A) Devrim
- B) Reform
- C) Liberalizm
- D) Demokrasi
- E) Totalitarizm

20. Birleşmiş Milletler örgütü hangi tarihte kurulmuştur?

- A) 24 Ekim 1945
- B) 20 Nisan 1946
- C) 24 Temmuz 1949
- D) 15 Mayıs 1954
- E) 26 Haziran 1961

MİLLİ GÜVENLİK BİLGİSİ 2

A

2012 3D 0101-A

1. Aşağıdakilerden hangisi Atatürk'ün milliyetçilik anlayışının özelliklerinden biri değildir?

- A) Irkçılığa karşı olması
- B) Türk milletinin varlığından başka milletlere önem vermemesi
- C) Evrensel niteliklere sahip olması
- D) Laikliği benimsemesi
- E) Barışçıl ve insancıl olması

2. Bir milletin sahip olduğu siyasal, sosyal ve askeri alanlardaki kurumların, devlet eliyle makul ve ölçülü metotlarla köklü bir şekilde değiştirilmesine ne ad verilir?

- A) Çağdaşlık
- B) Halkçılık
- C) İhtilal
- D) İnkılap
- E) Değişim

3. Atatürk ilkelerinden hangisi, din ve devlet işlerinin birbirinden ayrı tutulmasını sağlar?

- A) Laiklik
- B) Halkçılık
- C) Devletçilik
- D) Cumhuriyetçilik
- E) Milliyetçilik

4. Aşağıdakilerden hangisi 1982 Anayasası'nın birinci maddesini oluşturmaktadır?

- A) Türkiye Devleti ülkesi ve milletiyle bölünmez bir bütündür.
- B) Dili Türkçe'dir.
- C) Türkiye Devleti bir cumhuriyettir.
- D) Milli marşı "İstiklâl Marşı"dır.
- E) Türkiye Cumhuriyeti Atatürk milliyetçiliğine bağlıdır.

5. Tarihte, Türkiye Cumhuriyeti'nden önce kaç büyük Türk Devleti kurulmuştur?

- A) 9
- B) 10
- C) 12
- D) 16
- E) 18

6. Bir şeye, bir kimseye karşı duyulan sevgi ve fedakarlıkların toplamına ne ad verilir?

- A) Sağduyu
- B) Cesaret
- C) Nezaket
- D) Empati
- E) Saygı

7. Aşağıdakilerden hangisi bir vatandaşın sahip olması gereken temel değerlerden biri değildir?

- A) Millete bağlılık
- B) Topluma karşı sorumluluk
- C) Diğer insanlara karşı sorumluluk
- D) Kendi çıkarlarını her zaman ön planda tutmak
- E) Vatana bağlılık

8. Bir milletin üzerinde yaşadığı coğrafyaya ne ad verilir?

- A) Konum
- B) Jeopolitik
- C) Bölge
- D) Vatan
- E) Alan

9. Aşağıdakilerden hangisi jeopolitiği oluşturan değişmeyen etkenlerden biridir?

- A) Askeri değerler
- B) Dünya üzerindeki yeri
- C) Ekonomik değerler
- D) Zaman
- E) Politik değerler

10. Bir coğrafyanın dünya üzerinde askeri açıdan taşıdığı öneme ne ad verilir?

- A) Jeolojik konum
- B) Jeofizik konum
- C) Jeopolitik
- D) Lojistik
- E) Jeostratejik konum

A

2012 3D 0101-A

11. Coğrafi unsurların askeri açıdan incelenmesi ve stratejik sonuçlar çıkarılmasına ne ad verilir?

- A) Jeostrateji
- B) Jeopolitik
- C) Jeofizik
- D) Lojistik
- E) Jeolojistik

12. Bir devletin ülkesi ile milli tarihi, vatandaşın milli bilinci, devletin milli gücü ve dünya devletlerinin politik şartlarını ve ilişkilerini dikkate alarak milli politikanın tayin, tespit ve yönetilme esaslarını gösteren bilim aşağıdakilerden hangisidir?

- A) Politika
- B) Coğrafya
- C) Strateji
- D) Jeoloji
- E) Jeopolitik

13. Kuzey Kıbrıs Türk Cumhuriyeti kaç yılında kurulmuştur?

- A) 1981
- B) 1983
- C) 1984
- D) 1985
- E) 1986

14. Aşağıdakilerden hangisi Türkiye ile İran arasında yaşanmış temel sorunlardan biri değildir?

- A) İran'ın Türkiye'yi Devrim İhraç Politikası içinde görmesi
- B) Türkiye'nin batı bloğu içinde yer alması
- C) Türkiye'nin İran'a ambargo uygulaması
- D) İran'ın, Türkiye'ye sığınan İran'lı rejim karşıtlarını iade talebinde bulunması
- E) Türkiye'nin İran-İrak Savaşı'nda izlediği tarafsızlık politikası

15. Aşağıdakilerden hangisi Türkiye'nin tarih ve kültür birliğinin bulunduğu bölgede yer alan Orta Asya Türk Cumhuriyetleri'nden biri değildir?

- A) Ukrayna
- B) Kazakistan
- C) Özbekistan
- D) Kırgızistan
- E) Türkmenistan

16. Aşağıdakilerden hangisi Ege Denizi'nde karşılaştığımız sorunlardan biri değildir?

- A) Gayri askeri statüdeki adaların silahlandırılması sorunu
- B) Hava sahası sorunları
- C) Soykırım iddiaları sorunu
- D) Karasuları sorunu
- E) Kıt'a sahanlığı sorunu

17. Kuzey Atlantik Antlaşması olarak kurulan ve İkinci Dünya Savaşı sonrasında Avrupa'da Sovyetler Birliği'nin yayılcı politikalarına karşı üyelerinin güvenliğini sağlamak ve istikrarın gelişmesine yardımcı olmayı amaç edinen örgüt aşağıdakilerden hangisidir?

- A) OECD
- B) İKÖ
- C) NATO
- D) KEİB
- E) BM

18. Avrupa Birliği (AB) organlarından hangisi, üye ülkelerin devlet ya da hükümet başkanlarından oluşur?

- A) Avrupa Parlamentosu
- B) AB Konseyi
- C) AB Bakanlar Konseyi
- D) Komisyon
- E) Mahkeme

19. Ekonomik İşbirliği Teşkilatı'nın merkezi nerededir?

- A) Tahran
- B) Londra
- C) İslamabad
- D) Bakü
- E) Paris

20. Birleşmiş Milletler kaç yılında kurulmuştur?

- A) 1940
- B) 1942
- C) 1943
- D) 1944
- E) 1945

İŞ GÜVENLİĞİ 2

A

2012 3D 0101-A

1. Vücudun normal şeklini, yapısını, vücudu oluşturan organları ve bu organlar arasındaki yapısal, görevsel ilişkileri inceleyen bilim dalına ne ad verilir?

- A) Filoloji
- B) Genetik
- C) Pediatri
- D) Anatomi
- E) Histoloji

2. Bir kadın kalbinin ortalama ağırlığı kaç gramdır?

- A) 200-230
- B) 230-280
- C) 280-300
- D) 300-330
- E) 330-350

3. Atardamar , toplardamar ve kılcal damarlardan oluşan damar ağının içinde dolaşan akıcı plazma ve hücrelerden oluşmuş kırmızı renkli yaşamsal sıvının adı nedir?

- A) Trombosit
- B) Akyuvar
- C) Alyuvar
- D) Lokosit
- E) Kan

4. İnce bağırsak beş yaştan üzerindeki insanlarda genellikle kaç metre uzunluğundadır?

- A) 1-2
- B) 3-4
- C) 5-6
- D) 7-8
- E) 9-10

5. Kaza, hastalık, yangın, deprem vb. tehlikeli ve ani durumlarda hastaya kesin tedavi öncesi uygulanan ilk ve ivedi işleme ne ad verilir?

- A) Teşhis
- B) İlk yardım
- C) Şok
- D) Tanı
- E) Anestezi

6. Aşağıdakilerden hangisi kanama çeşitlerinden biridir?

- A) Yara kanamaları
- B) Tumike kanamaları
- C) Toplardamar kanamaları
- D) Yanık kanamaları
- E) Kesik kanamaları

7. Aşağıdakilerden hangisi kimyasal yanıkların oluşma nedenidir?

- A) Toz
- B) Rutubet
- C) Tuz
- D) Kuvvetli asit
- E) Güneş ışığı

8. Vücuttaki dokulara yeterli oksijenin gitmemesi sonucu dokularda bozulma meydana gelmesine ne denir?

- A) Heyecan
- B) Sıkıntı
- C) Daralma
- D) Boğulma
- E) Kırılma

9. Aşağıdakilerden hangisi bir işyerinde çıkabilecek yangınların başlıca nedenlerinden biri değildir?

- A) Yangınlardan korunma önlemlerinin alınması
- B) İhmal ve dikkatsizlik
- C) Sabotaj
- D) Doğa olayları
- E) Bilgisizlik

10. Aşağıdakilerden hangisi kıvılcım kaynaklarından biridir?

- A) Bilgisayar
- B) Sönmüş sigara
- C) Baca
- D) Cep telefonu
- E) Piknik örtüsü

A

2012 3D 0101-A

11. Fuel-Oil üzerine ince damlalar halinde su püskürtülerek yanmayı durdurma olayına ne ad verilir?

- A) Aerosol
- B) Enfeksiyon
- C) Ampütasyon
- D) Antiseptik
- E) Emülsifikasyon

12. Uçakların kanatlarında ve bazı bölümlerinde soğuk havalarda ve sürat nedeniyle donmayı önlemek için kullanılan yanma özelliğine sahip maddenin adı nedir?

- A) Hidroliz
- B) Anti-icing
- C) Diyastol
- D) Epitelyum
- E) Anyonik

13. 1473 yılında kuyumcularla ilgili bazı hastalıkları inceleyen bilim adamı kimdir?

- A) Paracelsus
- B) Rammazzini
- C) Dioscorides
- D) Acricola
- E) Ulrich Ellenbrong

14. 1847 yılında çıkarılan ve çalışma saatlerini sınırlayan yasanın adı nedir?

- A) On saat yasası
- B) Magnacarta
- C) Çıraklık yasası
- D) İLO sözleşmesi
- E) Borçlar Kanunu

15. Türkiye'de Cumhuriyetin ilanından sonra iş sağlığı ve iş güvenliği alanında ilk düzenleme hangisidir?

- A) Sosyal Güvenlik Yasası
- B) Borçlar Yasası
- C) Belediyeler Yasası
- D) Umumi Hıfzısıhha Yasası
- E) Hafta Tatili Yasası

16. İşçilerin kendi hak ve çıkarlarını korumak ve geliştirmek üzere oluşturdukları ve bir araya geldikleri sınıfsal ve toplumsal örgütün adı nedir?

- A) Oda
- B) Loca
- C) Sendika
- D) Demek
- E) Ahi teşkilatı

17. Aşağıdakilerden hangisi işverenin kanuna göre Sosyal Güvenlik Kurumuna karşı sorumluluklarından biri değildir?

- A) İş yeri bildirgesi ve eklerinin verilmesi
- B) Çalıştırmadığı işçilerin bildirgesinin verilmesi
- C) Aylık prim ve hizmet belgesinin belirtilen biçimde ve sürede verilmesi
- D) İş kazası ve meslek hastalığı bildiriminin yapılması
- E) Sigorta primlerinin Kuruma ödenmesi

18. Çalışma ve Sosyal Güvenlik Bakanlığı Bölge Müdürlüklerince verilen idari para cezalarına nerede itiraz edilebilir?

- A) Sulh ceza mahkemesi
- B) Asliye mahkemesi
- C) Ağır mahkemesi
- D) İş mahkemesi
- E) Vergi mahkemesi

19. Mekanik çalışan kaldırma araçlarının kancalarının güvenlik katsayısı (taşıma gücü) taşıyacakları yükün kaç katına eşit olmalıdır?

- A) 1
- B) 2
- C) 3
- D) 4
- E) 5

20. Aşağıdakilerden hangisi elektrikten kaynaklanan iş kazalarının önlenmesinde alınacak önlemlerden biri değildir?

- A) Büyük gerilim kullanmak
- B) Yalıtımak
- C) Sıfırlamak
- D) Topraklamak
- E) İzolasyon trafosu

SANAT TARİHİ 1

A

2012 3D 0101-A

1. Aşağıdakilerden hangisi Anadolu'daki tarih öncesi çağlardan biri değildir?

- A) Nüemizmatik
- B) Neolitik
- C) Kalkolitik
- D) Mezolitik
- E) Paleolitik

2. Anadolu'da ilk parayı kullanan uygarlık aşağıdakilerden hangisidir?

- A) Truva
- B) Urartu
- C) Çatalhöyük
- D) Frigya
- E) Lidya

3. Homeros'un İlyada Destanı'na da konu olan Truva Efsanesi'nin geçtiği "Truva Kenti" bugün hangi ilimizin sınırları içerisinde?

- A) Ankara
- B) Çanakkale
- C) Bursa
- D) İstanbul
- E) Balıkesir

4. Hazar Denizi, Malatya, Erzurum, Musul ve Halep arasındaki bölgede yaşayan Asya kökenli Hurri kabileleri tarafından M.Ö.IX yüzyılda Van Gölü ve çevresinde kurulan, başkenti Tuşpa olan devlet aşağıdakilerden hangisidir?

- A) Frig
- B) Hitit
- C) Urartu
- D) Asur
- E) Sümer

5. Forumların çevresinde yer alan resmi işlerin yürütüldüğü, içi sütunlarla neflere ayrılmış dikdörtgen planlı yapılara ne ad verilir?

- A) Bouleterion
- B) Tiyatro
- C) Tapınak
- D) Bazilika
- E) Amfiteyatro

6. Frig Devleti'nin kurucusu ve ünlü kralı Midas'ın Gordion'da bulunan mezarı, yığma toprak tepeden oluşan ve içinde mezar odası bulunan bir mezar yapısıdır.

Aşağıdakilerden hangisi bu mezar yapısını tanımlar?

- A) Menhir
- B) Piramit
- C) Dolmen
- D) Mastaba
- E) Tümülüs

7. Yunan Heykelticiliği'nde portre sanatının en önemli sanatçısı kimdir?

- A) Lysippos
- B) Miron
- C) Praksiteles
- D) Leochares
- E) Polikleitos

8. Yunan kentlerinde Pazar yeri ve halkın toplandığı açık meydanlar olan "agora"nın, işlev ve kurgu olarak Roma kentlerindeki benzer niteliklere sahip mimari uygulaması aşağıdakilerden hangisidir?

- A) Anfiteyatro
- B) Forum
- C) Zafer Takı
- D) Stadion
- E) Sütunlu Cadde

9. Bizans sanatında 6.yy.da bazilika mimarisi geliştirilerek kubbeli bazilikalar inşa edilmiştir.

Bu yapıların en anıtsal örneği aşağıdakilerden hangisidir?

- A) İstanbul Aya İrini Kilisesi
- B) Demre Aziz Nikolaos Kilisesi
- C) İstanbul Sergios Bacchos Kilisesi
- D) İstanbul Ayasofya Kilisesi
- E) Karaman Binbir Kilise

10. Bizans Sanatı'nda bir döneme de adını veren "ikonoklazma" teriminin anlamı aşağıdakilerden hangisidir?

- A) İsa'nın Doğumu
- B) El Yazması
- C) Tasvir Kırıcılık
- D) İsa'nın Mucizeleri
- E) Son Akşam Yemeği

A

2012 3D 0101-A

11. Aşağıdaki sanat türlerinden hangisi güzel sanatlardan biri değildir?

- A) Mimari
- B) Tiyatro
- C) Kuyumculuk
- D) Müzik
- E) Pantomim

12. Küçük boyutlu renkli taş, cam ve değişik malzemelerin yan yana dizilmesiyle elde edilen resim türüne ne ad verilir?

- A) Fresko
- B) Mozaik
- C) Vitray
- D) Rölyef
- E) Gravür

13. İvriz Kaya Kabartması günümüzde hangi ilimizin sınırları içinde yer alır?

- A) Eskişehir
- B) Burdur
- C) Nevşehir
- D) Antalya
- E) Konya

14. İmparator Hadrianus döneminde M.S.2.yüzyılda yaptırılan yuvarlak planlı Panteon tapınağı aşağıdaki şehirlerden hangisinde yer alır?

- A) Roma
- B) Venedik
- C) Floransa
- D) Milano
- E) Napoli

15. Pantomim, aşağıdaki güzel sanatların hangi türü içinde değerlendirilebilir?

- A) Endüstriyel Sanatlar
- B) Plastik Sanatlar
- C) Karma Sanatlar
- D) Ritmik Sanatlar
- E) İşitsel Sanatlar

16. Anadolu sanatında önemli bir yeri olan Hitit Uygarlığının ünlü başkenti, aşağıdakilerden hangisidir?

- A) Sard
- B) Cerablus
- C) Tuşpa
- D) Gordion
- E) Hattuşaş

17. Maden aletlerinin yanı sıra taş aletlerinin de kullanılmaya devam edilmesinden dolayı bu çağa "Maden-Taş Çağı"ı denilmiştir.

Bu çağın diğer ismi aşağıdakilerden hangisidir?

- A) Kalkolitik Çağ
- B) Maden Çağı
- C) Paleolitik Çağ
- D) Neolitik Çağ
- E) Mezolitik Çağ

18. Aşağıdakilerden hangisi, İlk Çağda Anadolu'da kurulan devletlerden biri değildir?

- A) Hititler
- B) Asurlular
- C) Lidyalılar
- D) Urartular
- E) Frigyalılar

19. Mezopotamya'da Ur, Uruk, Umma ve Kaş gibi önemli şehir devletleri aşağıdaki uygarlıklardan hangisi tarafından kurulmuştur?

- A) Babilliler
- B) Hititler
- C) Sümerler
- D) Akadlar
- E) Asurlular

20. Aşağıdakilerden hangisi endüstriyel sanatlardan biri değildir?

- A) Kuyumculuk
- B) Dokumacılık
- C) Kunduracılık
- D) Sinema
- E) Demircilik

SEÇMELİ TÜRK EDEBİYATI 4

A

2012 3D 0101-A

1. Aşağıdakilerden hangisi Divan edebiyatı nazım şekillerinden biridir?

- A) Koşma
- B) Mânî
- C) Türkü
- D) Kaside
- E) Destan

2. Aşağıdakilerden hangisi Divan şiirinin özelliklerinden biri değildir?

- A) Dilinin ağır, anlatımının sanatlı olması
- B) Tam ve zengin uyak kullanılması
- C) Sözlü geleneğe dayanması
- D) Aruz ölçüsü kullanılması
- E) Nazım biriminin genelde beyit olması

3. Beş mesnevinin bir araya getirilmesiyle meydana gelen eserlere ne ad verilir?

- A) Musammat
- B) Müstezât
- C) Münşeat
- D) Hamse
- E) Tezkire

4. Kırgızların geleneklerini, ahlak ve aile hayatlarını, dünya ve hayat görüşlerini anlatan destan aşağıdakilerden hangisidir?

- A) Oğuz Kağan
- B) Manas
- C) Türeyiş
- D) Şu
- E) Göç

5. İlk İslâmî ürünlerimizden Divân-ı Lûgatî't-Türk'ün yazarı kimdir?

- A) Hacı Bektaş Velî
- B) Edip Ahmet Yükneki
- C) Yusuf Has Hâcîp
- D) Hoca Ahmet Yesevî
- E) Kaşgarlı Mahmut

6. Arapça ve Farsçanın Türkçe üzerinde baskı oluşturduğu bir dönemde "Bugünden sonra divanda, dergâhta, bargâhta, mecliste, meydanda Türkçeden başka dil kullanılmayacaktır." diyerek bir fermanla dilimize sahip çıkmak isteyen devlet adamı kimdir?

- A) Fatih Sultan Mehmet
- B) Yavuz Sultan Selim
- C) Karamanoğlu Mehmet Bey
- D) Sokullu Mehmet Paşa
- E) Kanuni Sultan Süleyman

7. Aşağıdakilerden hangisi dinî-tasavvufî konulu şiirlerden biri değildir?

- A) Nefes
- B) Hikmet
- C) Gazel
- D) Şathiye
- E) Devriye

8. Aşağıdakilerden hangisi XIV. yüzyıl Divan şairi Ahmedî'nin eseridir?

- A) Tahir ile Zühre
- B) Arzu ile Kamber
- C) Risaletü'n-Nushiyye
- D) Leylâ vü Mecnun
- E) Cemşid ü Hurşit

9. Dede Korkut Hikayeleri ile ilgili olarak aşağıdakilerden hangisi söylenemez?

- A) Biri Dresten'de diğeri Vatikan'da olmak üzere iki nüshasının bulunduğu
- B) Müslüman Oğuzların iç ve dış savaşlarının anlatıldığı
- C) Yazarının Dede Korkut olduğu
- D) XV. yüzyılda yazıya geçirildiği
- E) Eserde doğaüstü varlıkların da yer aldığı

10. Gazel nazım şeklinin en güzel beyitine ne ad verilir?

- A) Makta beyit
- B) Yek-âvaz gazel
- C) Musammat gazel
- D) Matla beyit
- E) Beytül-gazel

A

2012 3D 0101-A

11. Divan edebiyatında şairlerin kendilerini övme geleneği vardı. Kaside nazım şekli içinde şairin kendini övdüğü bölüme ne ad verilir?

A) Mersiye
B) Medhiye
C) Girizgâh
D) Tegazzül
E) Fahriye

12. Allah'a yakarışı işleyen, başışlanmayı dileyen şiirlere ne ad verilir?

A) Hicviye
B) Münacaat
C) Kaside
D) Naat
E) Tevhit

13. Bed-asla necabet mi verir hiç üniforma
Zer-düz palan ursan eşek yine eşektir.

Ziya Paşa'nın bu beyitinde vurgulanmak istenen aşağıdakilerden hangisidir?

A) Asalet insanın özündedir.
B) Üniforma insana soyluluk verir.
C) Yeryüzünde mayası bozuk olanlar da vardır.
D) Eşeğin değeri üstüne vurulan eyer kadardır.
E) Aslı kötü olanlar üniforma giyemez.

14. Anonim halk şiiri örneği olup genellikle dört dizeden oluşan, 7'li hece ölçüsüyle söylenen, aaba şeklinde uyaklanan nazım şekline ne ad verilir?

A) Koşma
B) Mânî
C) Türkü
D) Mesnevî
E) Semaî

15. Aşağıdakilerden hangisi kahramanlık hikâyelerinden biridir?

A) Köroğlu
B) Hayriye
C) Kerem ile Aslı
D) Âşık Garip
E) Lütfiye

16. Su akar güldür güldür
Mendilim dolu güldür
Yeri göğü yaratan
Ne olur beni güldür

Yukarıdaki mânide sesteş sözcüklerle yapılan uyak, aşağıdakilerden hangisidir?

A) Tam uyak
B) Yarım uyak
C) Zengin uyak
D) Cinaslı uyak
E) Tunç uyak

17. XVII. yüzyıl Osmanlı İmparatorluğu'nun çok yönlü yazarlarından ve düşünürlerindendir. Bilim dünyasına ışık tutan çok önemli eserler bırakmıştır. Cihannüma, Fezleke, Keşfü'z-zünun eserlerinden bazılarıdır.

Yukarıda kısaca tanıtılan ünlü bilgin kimdir?

A) Mütercim Asım
B) Süleyman Çelebi
C) Evliya Çelebi
D) Kâtip Çelebi
E) Sehî Bey

18. Aşağıdakilerden hangisi ilk islamî eserlerimizden biri değildir?

A) Cemşid ü Hurşid
B) Kutadgu Bilig
C) Atabetü'l – Hakâyık
D) Divân-ü Lûgatî't-Türk
E) Divân-ı Hikmet

19. Aşağıdakilerden hangisi orta oyunu tiplerinden biridir?

A) Külhanbeyi
B) Pişekâr
C) Tuzsuz Deli Bekir
D) Karagöz
E) Hacıvat

20. Kültürel tarihimizi aydınlatacak düşüncelerin, toplumun değer yargılarının ele alınıp işlendiği "Siyasetnâme" türünün ilk örneği sayılan "Kutadgu Bilig" in yazarı kimdir?

A) Yusuf Has Hacıp
B) Hoca Ahmet Yesevî
C) Edip Ahmet Yükeñî
D) Hacı Bektaş Velî
E) Yunus Emre

SEÇMELİ ALMANCA 6

A

2012 3D 0101-A

Bu testin cevaplarını, cevap anahtarında SEÇMELİ YABANCI DİL 6 sütununa işaretleyiniz.

1. Sie hätte sehr gern ein Kleid.

Welches Wort paßt in die obige Lücke?

Cümlede boş bırakılan yeri aşağıdakilerden hangisi doğru şekilde tamamlar?

- A) neues
- B) neu
- C) neuen
- D) neuem
- E) neuer

2. A:, du wärest heute in Hawaii?
B: Das wäre ja super. Ich würde immer schwimmen!

Welches ergänzt die Lücke im obigen Dialog?

Verilen karşılıklı konuşmada boş bırakılan yeri aşağıdakilerden hangisi tamamlar?

- A) Kommt mit
- B) Lauf schneller
- C) Hängt an
- D) Stell dir vor
- E) Hatte sie gewusst

3. A: Wo wart ihr gestern Abend?
B: Wir waren bei unseren Freunden.
A:
B: Nein, wir wollten nicht tanzen!

Welches ergänzt den obigen Dialog?

Verilen karşılıklı konuşmayı aşağıdakilerden hangisi tamamlar?

- A) Ich dachte mir, dass wir ins Kino gehen!
- B) Ich dachte ihr wart zum Tanzen gegangen.
- C) Ich habe keine Zeit zum Tanzen.
- D) Ich möchte auch gerne mitkommen.
- E) Ich gehe gerne Tanzen.

4. Wenn ich viel Geld, ich mir ein großes Auto kaufen.

Welche Wörter passen in die obigen Lücken?

Cümlede boş bırakılan yerleri aşağıdakilerden hangileri doğru şekilde tamamlar?

- A) hat / wirst
- B) hätte / würde
- C) hast / werden
- D) habe / wird
- E) hatten / würdet

5. der Versammlung gehe ich nach Hause.

Welches Wort paßt in die obige Lücke?

Cümlede boş bırakılan yeri aşağıdakilerden hangisi doğru şekilde tamamlar?

- A) Zu
- B) Seit
- C) Auf
- D) Für
- E) Nach

6. A: Schreibst du einen Roman?
B: Nein, ich schreibe keinen Roman.
A:
B: Ach, das ist nur ein Gerücht!

Welches ergänzt den obigen Dialog?

Verilen karşılıklı konuşmayı aşağıdakilerden hangisi tamamlar?

- A) Ich dachte, wir könnten zusammen essen!
- B) Wir lesen auch nicht sehr gern!
- C) Man hat mir gesagt, dass es hier gute Romane zu kaufen gibt!
- D) Ich glaube, dass das ein Kriminalroman ist!
- E) Ich habe gehört, du schreibst einen Roman!

A

2012 3D 0101-A

7. Man sagt, die Mannschaft Erfolg
.....

Welche Wörter passen in die obigen Lücken?

Cümlede boş bırakılan yerleri
aşağıdakilerden hangileri doğru şekilde
tamamlar?

- A) wird / hatte
- B) werde / haben
- C) wirst / hatten
- D) würde / habe
- E) wurde / hat

8. Ich habe aus der Zeitung, es werde
heute ein schönes Wetter.

Welches Wort paßt in die obige Lücke?

Cümlede boş bırakılan yeri aşağıdakilerden
hangisi doğru şekilde tamamlar?

- A) einfallen
- B) sondern
- C) beenden
- D) auffallen
- E) erfahren

9. Sie sagte mir,

Welches ergänzt nicht die Lücke im obigen
Satz?

Verilen cümleyi aşağıdakilerden hangisi
tamamlamaz?

- A) der Film sei von einem türkischen Regisseur
gedreht worden.
- B) die Banken seien durchgehend
geschlossen.
- C) gestern habe es geregnet.
- D) der Lehrer sei krank und liege im Bett.
- E) wird die Prüfung bestehen.

10. A: Kommt deine Mutter auch mit ins Kino?
B:
A: Das ist aber Schade!

Welches ergänzt den obigen Dialog?

Verilen karşılıklı konuşmayı aşağıdakilerden
hangisi tamamlar?

- A) Ja, ich habe ihn abgeholt.
- B) Nein, ich kenne sie überhaupt nicht.
- C) Nein, sie habe keine Lust ins Kino zu
gehen.
- D) Ja, das Buch hatte ich auch gelesen.
- E) Nein, die Geschäfte sind heute
geschlossen.

11. Der Chef sagt, wir morgen keine
Arbeit.

Welche Wörter passen in die obigen Lücken?

Cümlede boş bırakılan yerleri
aşağıdakilerden hangileri doğru şekilde
tamamlar?

- A) habest
- B) hatte
- C) hätten
- D) hättest
- E) hattet

12. Was bedeutet "birine bakmak" auf deutsch?

"birine bakmak" sözcüğünün Almancası
aşağıdakilerden hangisidir?

- A) jemanden versorgen
- B) allen helfen
- C) jemanden kennen
- D) jeden einladen
- E) alle ansprechen

13. Was hast du über deinen Freund gehört?

Welche Antwort paßt zur obigen Frage?

Verilen sorunun cevabı aşağıdakilerden
hangisidir?

- A) Sie wollte auch an der Versammlung
teilnehmen.
- B) Wir möchten nicht mehr darüber sprechen.
- C) Er hat gesagt, dass er am Wochenende
kommen will.
- D) Ich habe gehört, er habe wieder geheiratet.
- E) Ich bin immer krank geworden.

2012 3D 0101-A

14. Der Bus,, hat sich verspätet.

Welches ergänzt die Lücke im obigen Satz?

Verilen cümleyi aşağıdakilerden hangisi tamamlar?

- A) dem ich pünktlich ankam
- B) denen wir die Fahrkarten geben
- C) den wir nehmen wollen
- D) der nach Adana fährt
- E) das heute Abend abfährt

15. Die Dame, die nebenan wohnt,

Welches ergänzt die Lücke im obigen Satz?

Verilen cümleyi aşağıdakilerden hangisi tamamlar?

- A) wurden 10 Jahre alt.
- B) geschenkt bekommen
- C) arbeitet an der Hochschule.
- D) hattest viel Arbeit.
- E) gehört die Tasche.

16. Bana hediye ettiğin dolmakalemi çok beğendim.

Wie lautet der obige Satz auf deutsch?

Verilen cümlelerin Almancası aşağıdakilerden hangisidir?

- A) Das Geschenk, das für mich sein soll, kann ein Füller sein.
- B) Die Geschenke, die nur Füller sind, hätten für dich sein können.
- C) Der Füller, den du mir geschenkt hast, hat mir sehr gut gefallen.
- D) Der Füller, den ich in der Schule gefunden habe, ist teuer.
- E) Das Geschenk, das ich gekauft habe, ist ein Füller.

17. Der Student,, hat eine Prüfung zu bestehen.

Welches ergänzt die Lücke im obigen Satz?

Verilen cümleyi aşağıdakilerden hangisi tamamlar?

- A) deren Bücher hier sind
- B) der du kennst
- C) dem wir zusammen essen wollen
- D) der sehr nervös ist
- E) denen Eltern in Urlaub sind

18. Die Frau, der die Tasche gehört, ist blond.

Wie lautet der obige Satz auf türkisch?

Verilen cümlelerin Türkçesi aşağıdakilerden hangisidir?

- A) Esmer kadının çantası kayboldu.
- B) Çantanın sahibi olan kadın sarışın.
- C) Çanta almak isteyen kadının saçları kısa.
- D) Çantayı alan kadın saçını da boyatmak istiyor.
- E) Sarışın kadın çanta almak istiyor.

19. Der Döner, der eine aus der Türkei ist, schmeckt sehr gut.

Welches Wort paßt in die obige Lücke?

Cümlede boş bırakılan yeri aşağıdakilerden hangisi doğru şekilde tamamlar?

- A) Spezialität
- B) Geschmack
- C) Essen
- D) Landbrot
- E) Getränk

20. Ja, ich kenne den Käse, der aus Holland kommt.

Welche Frage paßt zur obigen Antwort?

Verilen cevabı gerektirecek soru aşağıdakilerden hangisidir?

- A) Kennst du den Käse, der aus Holland kommt?
- B) Kann ich ein Kilo holländische Käse haben bitte?
- C) Haben Sie hier Käse aus Holland?
- D) Hast du auch Hunger?
- E) Kommt der Käse aus Holland oder aus England?

SEÇMELİ FRANSIZCA 6

A

2012 3D 0101-A

Bu testin cevaplarını, cevap anahtarında
SEÇMELİ YABANCI DİL 6 sütununa
işaretleyiniz.

1. Elle veut se marier Paul.

Choisissez le mot qui convient.

Cümledeki boşluğu aşağıdakilerden hangisi
doğru şekilde tamamlar?

- A) avec
- B) à
- C) sans
- D) en
- E) de

2. Mon ami a acheté cette chemise.

Choisissez la forme passive de la phrase
ci-dessus.

Yukarıdaki cümlelerin edilgen hali
aşağıdakilerden hangisidir?

- A) Cette chemise sera acheté par mon ami.
- B) Cette chemise achetait par mon ami.
- C) Cette chemise est acheté par mon ami.
- D) Cette chemise a été acheté par mon ami.
- E) Cette chemise était acheté par mon ami.

3. Une famille turque au moyenne de
quatre ou cinq personnes.

Choisissez le mot qui convient.

Cümledeki boşluğu aşağıdakilerden hangisi
doğru şekilde tamamlar?

- A) dépend
- B) se compose
- C) invité
- D) se passe
- E) se marie

4. Bu mektup Gamze'ye Erkin tarafından yazıldı.

Choisissez la traduction qui convient.

Yukarıdaki cümlelerin Fransızca karşılığı
aşağıdakilerden hangisidir?

- A) Cette lettre est écrite par Erkin à Gamze.
- B) Cette lettre a été écrite à Gamze par Erkin.
- C) Cette lettre sera écrite à Gamze par Erkin.
- D) Erkin a écrit cette lettre à Gamze.
- E) Erkin écrira une lettre à Gamze.

5. Il a un cadeau à sa soeur.

Choisissez le mot qui convient.

Cümledeki boşluğu aşağıdakilerden hangisi
doğru şekilde tamamlar?

- A) imprimé
- B) préféré
- C) ramassé
- D) invité
- E) envoyé

6. En général, je me à 23 heures.

Choisissez le mot qui convient.

Cümledeki boşluğu aşağıdakilerden hangisi
doğru şekilde tamamlar?

- A) promené
- B) rencontré
- C) tombé
- D) suis
- E) couche

7. C'est un enfant bien élevé.

Choisissez l'antonyme du mot souligné.

Yukarıdaki cümlede altı çizili kelimenin zıt
anlamlısı aşağıdakilerden hangisidir?

- A) bon
- B) mal
- C) gentil
- D) belle
- E) meilleur

A

2012 3D 0101-A

8. A condition faire mes devoirs, je pourrai aller au théâtre.

Choisissez le mot qui convient.

Cümledeki boşluğu aşağıdakilerden hangisi doğru şekilde tamamlar?

- A) y
- B) à
- C) en
- D) qui
- E) de

9. Une lettre sera écrite Paul Mehmet.

Choisissez les mots qui conviennent.

Cümledeki boşlukları aşağıdakilerden hangisi doğru şekilde tamamlar?

- A) de / par
- B) de / à
- C) à / chez
- D) une / à
- E) à / par

10. C'est le fils de mon oncle, c'est mon

Choisissez le mot qui convient.

Cümledeki boşluğu aşağıdakilerden hangisi doğru şekilde tamamlar?

- A) tante
- B) gendre
- C) cousin
- D) nièce
- E) fiancé

11. -
- Je suis instituteur.

Choisissez la question qui convient.

Yukarıdaki konuşmada cevabı gerektiren soru aşağıdakilerden hangisidir?

- A) Qu'est-ce que tu as fait l'été dernier?
- B) Est-ce que vous étudiez en médecine?
- C) Quel est votre métier?
- D) Comment s'appelle cet examen?
- E) Que peut-on faire, après cet examen?

12. Elle n'a pas été reçue au Bac; elle est au lycée.

Choisissez le mot qui convient.

Cümledeki boşluğu aşağıdakilerden hangisi doğru şekilde tamamlar?

- A) encore
- B) travail
- C) facile
- D) bachelier
- E) médecine

13. -
- Non, j'étudie en lettres.

Choisissez la question qui convient.

Yukarıdaki konuşmada cevabı gerektiren soru aşağıdakilerden hangisidir?

- A) Quand est-ce que tu as reçu au Bac?
- B) Est-ce que tu es bachelier?
- C) Est-ce que tu as trouvé un travail?
- D) Est-ce que tu étudies en médecine?
- E) Pourquoi as-tu abandonné tes études?

14. plus fort, je n'entends rien.

Choisissez le mot qui convient.

Cümledeki boşluğu aşağıdakilerden hangisi doğru şekilde tamamlar?

- A) Vas-y
- B) Travaillez
- C) Tiens
- D) Parlez
- E) Manges

15. Aie fini tes devoirs avant le dîner.

Choisissez la traduction qui convient.

Yukarıdaki cümlelerin Türkçe karşılığı aşağıdakilerden hangisidir?

- A) Önce ödevlerini yap, sonra akşam yemeğini ye.
- B) Akşam yemeğine kadar ödevlerini yap.
- C) Akşam yemeğinden önce ödevlerini bitirmiş ol.
- D) Akşam yemeğinden sonra ödevlerini bitir.
- E) Ödevlerini bitir, akşam yemeği için dışarı çıkalm.

2012 3D 0101-A

16. Ne promène pas dans le jardin.

Choisissez le mot qui convient.

Cümledeki boşluğu aşağıdakilerden hangisi doğru şekilde tamamlar?

- A) tu
- B) toi
- C) te
- D) vous
- E) nous

17. Ne levez pas tard les matins.

Choisissez le mot qui convient.

Cümledeki boşluğu aşağıdakilerden hangisi doğru şekilde tamamlar?

- A) nous
- B) te
- C) le
- D) vous
- E) toi

18. Pensez votre père; il est assez âgé pour travailler.

Choisissez le mot qui convient.

Cümledeki boşluğu aşağıdakilerden hangisi doğru şekilde tamamlar?

- A) en
- B) à
- C) y
- D) toi
- E) de

19. une cravate pour ton père!

Choisissez le mot qui convient.

Cümledeki boşluğu aşağıdakilerden hangisi doğru şekilde tamamlar?

- A) Achète
- B) Organise
- C) Sois
- D) Sortant
- E) Sera

20. Attendez cinq minutes.

Choisissez la traduction qui convient.

Yukarıdaki cümlelerin Türkçe karşılığı aşağıdakilerden hangisidir?

- A) Beş dakika bekleyiniz.
- B) Hemen geçiniz.
- C) Beş dakika zamanınız var.
- D) Beş dakikalık bir iş.
- E) Zamanı iyi kullanmalısınız.

SEÇMELİ İNGİLİZCE 6

A

2012 3D 0101-A

Bu testin cevaplarını, cevap anahtarında SEÇMELİ YABANCI DİL 6 sütununa işaretleyiniz.

1. Kate drinks coffee every morning.

Which of the following is the negative form of the sentence above?

Aşağıdakilerden hangisi yukarıdaki cümlelerin olumsuz biçimidir?

- A) Kate doesn't drink coffee every morning.
- B) Kate isn't drinking coffee every morning.
- C) Kate didn't drink coffee every morning.
- D) Kate hasn't drunk coffee every morning.
- E) Kate wasn't drinking coffee every morning.

2. What did he do last night?

Which of the following can be the answer to the question above?

Aşağıdakilerden hangisi yukarıdaki sorunun yanıtı olabilir?

- A) He studies English.
- B) He is going to study English.
- C) He is studying English.
- D) He studied English.
- E) He has studied English.

3. The baby now. The baby for ten hours every day.

Which of the following completes the sentences above?

Aşağıdakilerden hangisi yukarıdaki cümleleri doğru olarak tamamlar?

- A) was sleeping/slept
- B) is sleeping/sleeps
- C) have slept/sleep
- D) is going to sleep/slept
- E) sleep/is sleeping

4. John: Did you watch the movie yesterday?
Liz : No, I didn't. The movie had already when I at the cinema.

Which of the following completes the dialogue above?

Aşağıdakilerden hangisi yukarıdaki konuşmayı doğru olarak tamamlar?

- A) finish / arrive
- B) finished / arrived
- C) finished / had arrived
- D) finish / arrived
- E) finishes / arrive

5. I am going to go to İstanbul July.

Which of the following completes the sentence above?

Aşağıdakilerden hangisi yukarıdaki cümleyi doğru olarak tamamlar?

- A) by
- B) between
- C) on
- D) at
- E) in

6. I will go to Ankara Wednesday.

Which of the following completes the sentence above?

Aşağıdakilerden hangisi yukarıdaki cümleyi doğru olarak tamamlar?

- A) in
- B) under
- C) at
- D) between
- E) on

A

2012 3D 0101-A

7. I always watch TV..... the evening.

Which of the following completes the sentence above?

Aşağıdakilerden hangisi yukarıdaki cümleyi doğru olarak tamamlar?

- A) on
- B) in
- C) at
- D) for
- E) to

8. Türk Devleti toprağı ve halkı ile bölünmez bir bütündür.

Which of the following is the English translation of the sentence above?

Aşağıdakilerden hangisi yukarıdaki cümlelin İngilizce karşılığıdır?

- A) It is only the republican regime which can best represent the wishes of people.
- B) The modernization of Turkey is dependent on economic and technological development.
- C) Through reformism, Turkey can reach level of contemporary civilization.
- D) The state should support the private enterprise
- E) The Turkish State is an indivisible whole comprising its territory and people.

9. The State should support the private enterprise.

Which of the following is the Turkish translation of the sentence above?

Aşağıdakilerden hangisi yukarıdaki cümlelin Türkçe karşılığıdır?

- A) Ekonomik kalkınmanın gerçekleşmesi için özel sektörün gelişmesi gerekir.
- B) Devletçilik ilkesi, özel sektöre karşı çıkar.
- C) Özel sektör, devleti desteklememelidir.
- D) Devlet, özel sektörü desteklememelidir.
- E) Devlet, özel sektöre destek vermelidir.

10. I hadn't seen Bob we met at Mary's party last month.

Which of the following completes the sentence above?

Aşağıdakilerden hangisi yukarıdaki cümleyi doğru olarak tamamlar?

- A) after
- B) yet
- C) until
- D) just
- E) already

11. That hotel is always full.It very cheap.

Which of the following completes the sentence above?

Aşağıdakilerden hangisi yukarıdaki cümleyi doğru olarak tamamlar?

- A) ought
- B) must have been
- C) must be
- D) should be
- E) will be

12. The students will be a test this time tomorrow.

Which of the following completes the sentence above?

Aşağıdakilerden hangisi yukarıdaki cümleyi doğru olarak tamamlar?

- A) taking
- B) take
- C) took
- D) has taken
- E) taken

13. I wish I in İstanbul now.

Which of the following completes the sentence above?

Aşağıdakilerden hangisi yukarıdaki cümleyi doğru olarak tamamlar?

- A) must be
- B) am
- C) should be
- D) were
- E) can be

2012 3D 0101-A

14. I told her a lie. That was a mistake.
I wish I her a lie.

Which of the following completes the sentence above?

Aşağıdakilerden hangisi yukarıdaki cümleyi doğru olarak tamamlar?

- A) couldn't tell
- B) don't tell
- C) didn't tell
- D) hadn't told
- E) haven't told

15. Mary's mother, knows three languages, is a famous professor.

Which of the following completes the sentence above?

Aşağıdakilerden hangisi yukarıdaki cümleyi doğru olarak tamamlar?

- A) where
- B) whom
- C) who
- D) whose
- E) which

16. Turkey is a country has coasts along three different seas.

Which of the following completes the sentence above?

Aşağıdakilerden hangisi yukarıdaki cümleyi doğru olarak tamamlar?

- A) when
- B) where
- C) which
- D) whom
- E) who

17. Mozart is a very famous composer
operas are well known everywhere.

Which of the following completes the sentence above?

Aşağıdakilerden hangisi yukarıdaki cümleyi doğru olarak tamamlar?

- A) whom
- B) who
- C) where
- D) whose
- E) which

18. If I you, I wouldn't wash the dishes.

Which of the following completes the sentence above?

Aşağıdakilerden hangisi yukarıdaki cümleyi doğru olarak tamamlar?

- A) must be
- B) were
- C) can be
- D) could be
- E) could have been

19. If he had set his alarm, he late for work.

Which of the following completes the sentence above?

Aşağıdakilerden hangisi yukarıdaki cümleyi doğru olarak tamamlar?

- A) wouldn't have been
- B) could have been
- C) would be
- D) mustn't be
- E) can't be

20. John a new car by this time next year.

Which of the following completes the sentence above?

Aşağıdakilerden hangisi yukarıdaki cümleyi doğru olarak tamamlar?

- A) will have bought
- B) has bought
- C) is buying
- D) bought
- E) buys

SEÇMELİ ALMANCA 5

A

2012 3D 0101-A

Bu testin cevaplarını, cevap anahtarında
SEÇMELİ YABANCI DİL 5 sütununa
işaretleyiniz.

1. Ahmet ist 18 Jahre alt und Serdar ist 22 Jahre alt. Ahmet ist Serdar.

Welches Wort paßt in die obige Lücke?

Cümlede boş bırakılan yeri aşağıdakilerden hangisi doğru şekilde tamamlar?

- A) jüngster
- B) jünger als
- C) klein wie
- D) so jung
- E) tüchtigster als

2. Der Mercedes ist schnell, der BMW ist schneller als der Mercedes. Aber der Porsche ist

Welches Wort paßt in die obige Lücke?

Cümlede boş bırakılan yeri aşağıdakilerden hangisi doğru şekilde tamamlar?

- A) schnellstes
- B) schnell wie
- C) schnellste
- D) am schnellsten
- E) am schneller

3. Wie lautet die Grundform von "am meisten"?

"am meisten" sözcüğünün mastar hali aşağıdakilerin hangisinde doğru olarak verilmiştir?

- A) mehr
- B) viel
- C) gem
- D) gut
- E) lieb

4. Frau Krüger:
Sohn: Ich bin gekommen, weil ich Taschengeld brauche.
Frau Krüger: Ach ja, das habe ich vergessen!
Hier hast du dein Geld!
Sohn: Danke!

Welches ergänzt den obigen Dialog?

Verilen karşılıklı konuşmayı aşağıdakilerden hangisi tamamlar?

- A) Wie lange dauert die Schule?
- B) Wo ist deine Tasche?
- C) Wohin gehst du?
- D) Warum bist du gekommen?
- E) Wann machst du deine Hausaufgaben?

5. Verkehrspolizisten werden, um den Verkehr zu ordnen.

Welches Wort paßt in die obige Lücke?

Cümlede boş bırakılan yeri aşağıdakilerden hangisi doğru şekilde tamamlar?

- A) ausgeführt
- B) durchgesetzt
- C) eingesetzt
- D) geöffnet
- E) gerufen

6. Wie lautet das Wort "Finanzielle Unterstützung" auf türkisch?

"Finanzielle Unterstützung" sözcüğünün Türkçe karşılığı aşağıdakilerden hangisidir?

- A) Toplumsal harcamalar
- B) Bireysel gerçekleştirme
- C) Bireysel bağımsızlık
- D) Maddi destek
- E) Kişisel çıkarlar

A

2012 3D 0101-A

7. Die Angestellten arbeiten von 8.00 Uhr bis 17.30 Uhr.

Welche Frage paßt zur obigen Antwort?

Verilen cevabı gerektirecek soru aşağıdakilerden hangisidir?

- A) Wie lange dauert diese Arbeit?
B) Wo arbeiten sie?
C) Was machen hier die Angestellten?
D) Wann ist diese Firma geöffnet?
E) Wie lange arbeiten die Angestellten?

8. Die Herbstmonate sind

Welches ergänzt die Lücke im obigen Satz?

Verilen cümleyi aşağıdakilerden hangisi tamamlar?

- A) der September, der Oktober, der November.
B) der März, der April, der Mai.
C) der Dezember, der Januar, der Februar.
D) der Juni, der Juli, der August.
E) der Juni, der Juli, der September.

9. Die Angestellten in einer Bank können sich in der Pause

Welches Wort paßt in die obige Lücke?

Cümlede boş bırakılan yeri aşağıdakilerden hangisi doğru şekilde tamamlar?

- A) ausruhen
B) öffnen
C) rechnen
D) arbeiten
E) anfangen

10. Gehört das Buch nicht deiner Mutter?

Welche Antwort paßt zur obigen Frage?

Verilen sorunun cevabı aşağıdakilerden hangisidir?

- A) Nein, meine Mutter ist zu Hause.
B) Ja, meine Mutter will sich ein Buch kaufen.
C) Nein, das Buch gehört nicht meiner Mutter.
D) Ja, mein Buch habe ich in der Schule vergessen.
E) Nein, das Buch habe ich schon gelesen.

11., würde ich schlafen.

Welches ergänzt nicht die Lücke im obigen Satz?

Verilen cümleyi aşağıdakilerden hangisi tamamlamaz?

- A) Wenn ich jetzt auf einer Insel wäre
B) Wenn ich keine Hausaufgaben hätte
C) Wenn ich Zeit hätte
D) Wenn du mitkommen kannst
E) Wenn ich jetzt zu Hause wäre

12. Du kannst dir ein Auto kaufen, das neu auf dem Markt ist.

Welches Wort paßt in die obige Lücke?

Cümlede boş bırakılan yeri aşağıdakilerden hangisi doğru şekilde tamamlar?

- A) absolviert
B) behaupten
C) erschienen
D) erfahren
E) gekauft

13. versorgen / zu / ich / noch / habe / Familie / eine

Wie kann man mit den obigen Wortgruppen einen vollständigen Satz bilden?

Verilen sözcük gruplarıyla kurulabilecek en anlamlı ve doğru cümle aşağıdakilerden hangisidir?

- A) Ich habe noch eine Familie zu versorgen.
B) Eine Familie versorgen noch zu habe ich.
C) Noch zu versorgen eine Familie ich habe.
D) Zu versorgen ich habe Familie noch eine.
E) Habe zu versorgen Familie ich eine noch.

14. Was bedeutet "Başarılı olmak" auf deutsch?

"Başarılı olmak" sözcüğünün Almancası aşağıdakilerden hangisidir?

- A) Ernst sein
B) Verletzt sein
C) Erfahren können
D) Glücklich sein
E) Erfolg haben

2012 3D 0101-A

15. Der Roman ist von einem weltberühmten Schriftsteller geschrieben worden.

Welches ist die Konjunktiv-Form vom obigen Satz?

Verilen cümlelerin Konjunktif hali aşağıdakilerden hangisinde doğru olarak verilmiştir?

- A) Man hat zu mir gesagt, dass der Schriftsteller des Romans weltberühmt sein kann.
- B) Man sagt, der Roman sei von einem weltberühmten Schriftsteller geschrieben worden.
- C) Man hat mir gesagt, dass der Roman von einem berühmten Schriftsteller geschrieben wird.
- D) Man sagte, die Schriftsteller des Romans seien sehr berühmt.
- E) Man hatte mir gesagt, dass der Roman von einem weltberühmten Schriftsteller geschrieben sein könnte.

16. Der Film war sehr interessant. Er ist in diesem Jahr

Welches Wort paßt in die obige Lücke?

Cümlede boş bırakılan yeri aşağıdakilerden hangisi doğru şekilde tamamlar?

- A) gedreht worden
- B) gestartet sein
- C) gefördert worden
- D) bestehen können
- E) bekommen können

17. Hasta olduğu söyleniyor.

Wie lautet der obige Satz auf deutsch?

Verilen cümlelerin Almancası aşağıdakilerden hangisidir?

- A) Sie wäre krank und wäre nach Hause gegangen.
- B) Man sagt, sie sei krank.
- C) Man hat gehört, sie wäre krank.
- D) Sie wäre krank gewesen.
- E) Sie sei heute krank geworden.

18. arbeitet privat.

Welches Wort paßt in die obige Lücke?

Cümlede boş bırakılan yeri aşağıdakilerden hangisi doğru şekilde tamamlar?

- A) Der Arzt
- B) Die Kinder
- C) Die Männer
- D) Diese Frauen
- E) Dessen Mütter

19. Das Mädchen, das du gestern kennen gelernt hast,

Welches ergänzt den obigen Satz?

Verilen cümleyi aşağıdakilerden hangisi doğru olarak tamamlar?

- A) der du ein Buch geschenkt hast.
- B) neu verheiratet ist.
- C) kommen immer zu uns.
- D) sind sehr reich.
- E) wohnt nebenan.

20. Die Banken waren gestern geschlossen.

Wie lautet der obige Satz auf türkisch?

Verilen cümlelerin Türkçesi aşağıdakilerden hangisidir?

- A) Bankalar geçici olarak kapatılmış.
- B) Bankaya dün hiç kimse giremedi.
- C) Banka yarın kapalı olacak.
- D) Bankalar hafta sonları kapalıdır.
- E) Bankalar dün kapalıydı.

SEÇMELİ FRANSIZCA 5

A

2012 3D 0101-A

Bu testin cevaplarını, cevap anahtarında SEÇMELİ YABANCI DİL 5 sütununa işaretleyiniz.

1. Pierre va faire du ski cet

Choisissez le mot qui convient.

Cümledeki boşluğu aşağıdakilerden hangisi doğru şekilde tamamlar?

- A) sport
- B) hiver
- C) été
- D) automne
- E) printemps

2. Elle part vacances chaque été.

Choisissez le mot qui convient.

Cümledeki boşluğu aşağıdakilerden hangisi doğru şekilde tamamlar?

- A) y
- B) les
- C) à
- D) en
- E) de

3. Elle a oublié son sac voyage.

Choisissez le mot qui convient.

Cümledeki boşluğu aşağıdakilerden hangisi doğru şekilde tamamlar?

- A) des
- B) de
- C) en
- D) d'une
- E) chez

4. La femme vient est ma tante.

Choisissez le mot qui convient.

Cümledeki boşluğu aşağıdakilerden hangisi doğru şekilde tamamlar?

- A) où
- B) pas
- C) dont
- D) qui
- E) que

5. La maison où ils habitaient était très vieille.

Choisissez la traduction qui convient.

Yukarıdaki cümlelerin Türkçe karşılığı aşağıdakilerden hangisidir?

- A) Bu ev yaşlıların kaldığı evdi.
- B) Oturdıkları ev eski eşyalarla dolu.
- C) Oturdıkları ev çok eskiydi.
- D) Oturdıkları mahallede evler genelde eskiydi.
- E) Eski bir evde oturuyorlar.

6. Choisissez le synonyme du verbe "se distraire".

"Se distraire" fiilinin eşanlamlısı aşağıdakilerden hangisidir?

- A) se reposer
- B) s'intéresser
- C) s'entendre
- D) s'amuser
- E) s'ennuyer

7. Le pantolon j'ai acheté était trop cher.

Choisissez le mot qui convient.

Cümledeki boşluğu aşağıdakilerden hangisi doğru şekilde tamamlar?

- A) celui
- B) où
- C) qui
- D) celle
- E) dont

A

2012 3D 0101-A

8. On peut pique-niquer en forêt quand

Complétez la phrase avec la proposition qui convient.

Yukarıdaki cümleyi aşağıdaki ifadelerden hangisi doğru şekilde tamamlar?

- A) il fait beau.
B) il pleut.
C) il neige.
D) il y a du vent.
E) il fait du gris.

9. Tu partiras comment?, ou en groupe?

Choisissez le mot qui convient.

Cümledeki boşluğu aşağıdakilerden hangisi doğru şekilde tamamlar?

- A) Seul
B) À l'étranger
C) Quand
D) Organiser
E) Dégouté

10. Tu sais bien qu'il est impossible de contenter tout le monde.

Choisissez la traduction qui convient.

Yukarıdaki cümlelerin Türkçe karşılığı aşağıdakilerden hangisidir?

- A) Herkesin memnun olması için çalışıyorsun.
B) Çalışmaların herkesi memnun ediyor.
C) Herkesi memnun etmenin imkânsız olduğunu bilirsin.
D) Herkesi memnun etmenin imkânsız olduğunu bilmekte fayda vardır.
E) İmkânsızlıklara rağmen bu işi başaran herkesi memnun etti.

11. Elle a oublié son bagage main dans ma chambre.

Choisissez le mot qui convient.

Cümledeki boşluğu aşağıdakilerden hangisi doğru şekilde tamamlar?

- A) des
B) en
C) d'une
D) à
E) où

12. les / j'aime / brillantes / lumières
I II III IV

Mettez dans le bon ordre.

Yukarıdaki kelimelerin anlamlı ve kurallı bir bütün oluşturan sırası aşağıdakilerin hangisindi doğru olarak verilmiştir?

- A) I, III, IV, II
B) II, I, III, IV
C) II, I, IV, III
D) III, IV, II, I
E) III, IV, I, II

13. Il peut jouer piano.

Choisissez le mot qui convient.

Cümledeki boşluğu aşağıdakilerden hangisi doğru şekilde tamamlar?

- A) du
B) au
C) de la
D) de
E) les

14. Elle prend son petit déjeuner en la radio.

Choisissez le mot qui convient.

Cümledeki boşluğu aşağıdakilerden hangisi doğru şekilde tamamlar?

- A) étant
B) partant
C) ayant
D) regardant
E) écoutant

2012 3D 0101-A

15. Je vois un homme marchant dans la rue.

Choisissez la traduction qui convient.**Yukarıdaki cümlelerin Türkçe karşılığı aşağıdakilerden hangisidir?**

- A) Bu, dün sokakta gördüğüm adama benziyor.
- B) Sokakta yürüyen bir adam görüyorum.
- C) Bu adamı yürüyüşünden tanıdım.
- D) Sokakta yürüyen bir adamı çiziyorum.
- E) Bir adamın sokak ortasında durduğunu gördüm.

16. malade, elle n'est pas allée à l'école.

Choisissez le mot qui convient.**Cümledeki boşluğu aşağıdakilerden hangisi doğru şekilde tamamlar?**

- A) Etant
- B) Ayant
- C) Marchant
- D) Traversant
- E) Faisant

17. -

- Oui, je joue au basket chaque semaine.

Choisissez la question qui convient.**Yukarıdaki konuşmada cevabı gerektiren soru aşağıdakilerden hangisidir?**

- A) Vous jouez au tennis?
- B) Vous pratiquez régulièrement un sport?
- C) Depuis quand vous pratiquez ce sport?
- D) Pourquoi vous ne pratiquez pas un sport?
- E) Quel sport aimez-vous?

18. Monique un championnat de ping-pong chaque samedi.

Choisissez le mot qui convient.**Cümledeki boşluğu aşağıdakilerden hangisi doğru şekilde tamamlar?**

- A) organise
- B) veut
- C) passe
- D) va
- E) joue

19. Des enfants obéissants venus.

Choisissez le mot qui convient.**Cümledeki boşluğu aşağıdakilerden hangisi doğru şekilde tamamlar?**

- A) en
- B) est
- C) étant
- D) ayant
- E) sont

20. A : - Qu'est-ce que tu as fait hier soir?

B : -

Choisissez la réponse qui convient.**Yukarıdaki konuşmada boş bırakılan yeri aşağıdakilerden hangisi doğru şekilde tamamlar?**

- A) Je suis technicien.
- B) J'habite à Paris.
- C) Je vais partir pour Paris.
- D) J'aime la musique classique.
- E) Je suis allée au concert.

SEÇMELİ İNGİLİZCE 5

A

2012 3D 0101-A

Bu testin cevaplarını, cevap anahtarında SEÇMELİ YABANCI DİL 5 sütununa işaretleyiniz.

1. I used to milk when I was a child.

Which of the following completes the sentence above?

Aşağıdakilerden hangisi yukarıdaki cümleyi doğru olarak tamamlar?

- A) have drunk
- B) drink
- C) is drinking
- D) was drinking
- E) drunk

2. she heard the news, she began to cry.

Which of the following completes the sentence above?

Aşağıdakilerden hangisi yukarıdaki cümleyi doğru olarak tamamlar?

- A) Such
- B) So that
- C) Where
- D) As soon as
- E) The sooner

3. getting on the bus, he bought a ticket.

Which of the following completes the sentence above?

Aşağıdakilerden hangisi yukarıdaki cümleyi doğru olarak tamamlar?

- A) Where
- B) Before
- C) So
- D) Whether
- E) Which

4. Jane: Who translated this letter? You?
Mary: No. I got my friend it.

Which of the following completes the dialogue above?

Aşağıdakilerden hangisi yukarıdaki konuşmayı doğru olarak tamamlar?

- A) translating
- B) translate
- C) is translated
- D) to translate
- E) translated

5. Jack has already planted trees along the roads.

Which of the following is the passive voice of the sentence above?

Aşağıdakilerden hangisi yukarıdaki cümlelerin edilgen yapıda kurulumuş biçimidir?

- A) Trees are planted along the roads by Jack.
- B) Trees were being planted along the roads by Jack.
- C) Trees have already been planted along the roads by Jack.
- D) Trees will be planted along the roads by Jack.
- E) Trees had already been planted along the roads by Jack.

6. They will postpone the meeting.

Which of the following is the passive voice of the sentence above?

Aşağıdakilerden hangisi yukarıdaki cümlelerin edilgen yapıda kurulumuş biçimidir?

- A) The meeting is postponed.
- B) The meeting has been postponed.
- C) The meeting was postponed.
- D) The meeting will be postponed.
- E) The meeting is being postponed.

A

2012 3D 0101-A

7. If I had time, I my grandmother.

Which of the following completes the sentence above?

Aşağıdakilerden hangisi yukarıdaki cümleyi doğru olarak tamamlar?

- A) visited
- B) would have visited
- C) visit
- D) visiting
- E) would visit

8. If it rains, we swimming.

Which of the following completes the sentence above?

Aşağıdakilerden hangisi yukarıdaki cümleyi doğru olarak tamamlar?

- A) won't go
- B) doesn't go
- C) aren't going
- D) didn't go
- E) haven't gone

9. Nick told Mary, "I enjoyed the party last night." Nick told Mary that he the party the night before.

Which of the following completes the sentence above?

Aşağıdakilerden hangisi yukarıdaki cümleyi doğru olarak tamamlar?

- A) had enjoyed
- B) enjoyed
- C) has enjoyed
- D) is enjoying
- E) was enjoying

10. Ken : Are you a teacher?

Sandy : Yes, I am.

Bob : What does Ken want to know?

Sandy : He wants to know if I a teacher.

Which of the following completes the dialogue above?

Aşağıdakilerden hangisi yukarıdaki konuşmayı doğru olarak tamamlar?

- A) were
- B) will be
- C) am
- D) have been
- E) had been

11. Jack listened to Mary the piano.

Which of the following completes the sentence above?

Aşağıdakilerden hangisi yukarıdaki cümleyi doğru olarak tamamlar?

- A) has played
- B) will play
- C) plays
- D) playing
- E) played

12. I have to go to school tomorrow. I wish I to school tomorrow.

Which of the following completes the sentence above?

Aşağıdakilerden hangisi yukarıdaki cümleyi doğru olarak tamamlar?

- A) have gone
- B) should go
- C) didn't have to go
- D) don't have to go
- E) must go

13. He in his room at nights.

Which of the following completes the sentence above?

Aşağıdakilerden hangisi yukarıdaki cümleyi doğru olarak tamamlar?

- A) usually works
- B) work usually
- C) works usually
- D) usually working
- E) usually work

2012 3D 0101-A

14. He talk to his friend in class.

Which of the following completes the sentence above?

Aşağıdakilerden hangisi yukarıdaki cümleyi doğru olarak tamamlar?

- A) does
- B) isn't
- C) had
- D) shall
- E) mustn't

15. If you have a cold, you see a doctor.

Which of the following completes the sentence above?

Aşağıdakilerden hangisi yukarıdaki cümleyi doğru olarak tamamlar?

- A) should have
- B) should
- C) ought to have
- D) ought
- E) would

16. Mary : What shall we do tomorrow night?
Brenda : We go to a movie.

Which of the following completes the dialogue above?

Aşağıdakilerden hangisi yukarıdaki konuşmayı doğru olarak tamamlar?

- A) could
- B) should have
- C) must have
- D) ought
- E) could have

17. Peter to music last night.

Which of the following completes the sentence above?

Aşağıdakilerden hangisi yukarıdaki cümleyi doğru olarak tamamlar?

- A) is going to listen
- B) listened
- C) will listen
- D) listen
- E) have listened

18. We painted the house by

Which of the following completes the sentence above?

Aşağıdakilerden hangisi yukarıdaki cümleyi doğru olarak tamamlar?

- A) ourselves
- B) themselves
- C) yourselves
- D) herself
- E) himself

19. Jill : Who will the washing up?
Bob : Well, I won't.

Which of the following completes the dialogue above?

Aşağıdakilerden hangisi yukarıdaki konuşmayı doğru olarak tamamlar?

- A) done
- B) has done
- C) does
- D) doing
- E) do

20. I haven't seen him years.

Which of the following completes the sentence above?

Aşağıdakilerden hangisi yukarıdaki cümleyi doğru olarak tamamlar?

- A) since
- B) ago
- C) now
- D) after
- E) for

SINAVDA UYGULANACAK KURALLAR

1. Sınav süresince görevlilerle konuşmak ve soru sormak yasaktır. Aynı şekilde görevlilerin de öğrencilerle yakından ve alçak sesle konuşmaları yasaktır. Yanınızda ve sıranızda dersle ilgili kitap not vb. bulundurmamak yasaktır. Sınav sırasında kopya yapan, yapmaya teşebbüs eden, kopya veren, kopya yapılmasına yardım edenlerin kimlikleri BİREYSEL SINAV İPTAL TUTANAĞINA yazılacak ve bu öğrencilerin sınavları geçersiz sayılacaktır. Görevliler kopya yapmaya veya vermeye kalkışanları uyarmak zorunda değildir, sorumluluk size aittir.
Sınavda yetki verilmiş görevliler, bu salondaki sınavın kurallara uygun biçimde yapılmadığını, toplu kopya girişiminde bulunulduğunu raporlarında bildirdikleri veya üniversite sınav merkezince yapılan incelemeler sonucu toplu kopya yapıldığı saptandığı takdirde, Anadolu Üniversitesinin yetkili organları bu salonda sınava giren öğrencilerin tümünün sınavını geçersiz sayar.
2. Öğrenciler sınav sırasında görevlilerin her türlü uyarılarına uymak zorundadır. Gerekğinde görevliler oturduğunuz yerleri değiştirebilir. Sınavınızın geçerli sayılması, her şeyden önce sınav kurallarına uymanıza bağlıdır. Kurallara aykırı davranışta bulunanların ve yapılacak uyarılara uymayanların kimlikleri BİREYSEL SINAV İPTAL TUTANAĞINA yazılacak ve sınavları geçersiz sayılacaktır.
3. Sınav sırasında herhangi bir nedenle dışarı çıkmak yasaktır. Sınavın başlamasını izleyen ilk 30 dakika ve sınav süresinin son 5 dakikası içinde, sınavlarını tamamlasalar bile hiçbir öğrencinin salondan çıkmasına izin verilmeyecektir. Sınavın başlamasını izleyen ilk 15 dakikadan sonra hiç bir öğrenci sınava alınamaz.
4. Biraz sonra soru kitapçıkları dağıtılacaktır. Cevaplamaya geçmeden önce size verilecek soru kitapçığının üzerinde ayrılan yere, adınızı, soyadınızı, öğrenci numaranızı ve bu salonun numarasını yazınız. Sınav sonunda soru kitapçıkları toplanacak ve sınav merkezinde tek tek incelenecektir. Soru Kitapçığının bir tek sayfası eksik çıksa bile sınavınız geçersiz sayılacaktır.
5. Size verilen Cevap Kâğıdının üzerinde yazan numara ve ismin size ait olduğunu kontrol ediniz. Cevap Kâğıdı size ait değilse, görevlileri uyarıp size ait Cevap Kâğıdını alınız. Daha sonra Cevap Kâğıdı üzerinde ayrılmış olan yerlere öğrenci numaranızı ve test grubunuzu kodlayınız, adınızı soyadınızı yazınız ve ilgili yeri imzalayınız.
6. Cevap Kâğıdına yazılacak her türlü yazı, rakam ve yapılacak işaretlemeler için siyah kurşun kalem kullanılacaktır. Tükenmez kalem veya dolmakalem kesinlikle kullanılmayacaktır. Cevapların tümü CEVAP KÂĞIDINA İŞARETLENECEKTİR. Soru Kitapçıkları üzerine yapılan işaretlemeler kesinlikle değerlendirilmez. Her dersin cevabı, o dersin isminin yazılı olduğu sütuna işaretlenmelidir. Yanlış sütuna yapacağınız işaretlemeler kesinlikle değerlendirilmez.
7. Soru Kitapçığının sayfalarındaki boş yerleri müsvedde yapmak için kullanabilirsiniz. Başka bir kâğıdı müsvedde olarak kullanmak yasaktır. Bu tür işlemleri yapanların sınavları geçersiz sayılır.
8. Öğrencilerin sorulara verdikleri yanıtları herhangi bir yere yazmaları ve bunu sınav salonundan dışarıya çıkarmaları yasaktır. Bu kurala uymayanların sınavları geçersiz sayılır.
9. Sınav sırasında öğrencilerin birbirinden kalem, silgi vb. şeyleri istemesi kesinlikle yasaktır. Yasağa uymayanların sınavı geçersiz sayılır.
10. Sınav sırasında hesap makinesi kullanılabilir. Ancak, hesap makinesinin sınav sırasında ödünç alınması, verilmesi ve değiştirilmesi yasaktır. (Data Bank vb. gibi özel elektronik donanımlar kullanılamaz.) Bu tür davranışlarda bulunanların sınavları geçersiz sayılır.
11. Öğrenciler sınava gelirken telsiz, cep telefonu, çağrı cihazı vb. iletişim araçları ile görüntü kaydetmeye yarayan fotoğraf makinesi, kamera vb. araçları getirmemeleri konusunda sınava giriş belgelerinde uyarılmışlardır. Buna rağmen yanlarında bu tür cihazları getirenlerin, bunları sınav sonrasında almak üzere salon başkanına teslim etmeleri gerekir. Bu cihazları sınav salonunda yanlarında bulunduran öğrencilerin, cihazları kapalı bile olsa, o oturumdaki sınavı geçersiz sayılacaktır. Bu cihazların kaybolmasından Üniversitemiz sorumlu olmayacaktır.
12. Biraz sonra dağıtılacak olan soru kitapçığında test ile ilgili açıklamalar yazılıdır. Bu açıklamaları okumadan ve size "SINAV BAŞLAMIŞTIR" denmeden soruları cevaplamaya başlamayınız.

SINAVLARINIZDA BAŞARILAR DİLERİZ.